

屏東縣立恆春國中 114 學年度第二學期補考 九年級國文科 題庫卷

| | | | |
|----------------|-----------------|-----|-----------|
| 命題教師：李文琪 教師 | 班級：_____年_____班 | 分數： | 科目代碼： |
| 命題範圍：康軒版第六冊(全) | 座號：_____ | | 01 |
| 審題教師：管靜怡 教師 | 姓名：_____ | | |

1. () 〈鹿耳門〉：「鐵板沙連到七鯤，鯤身激浪海天昏。」關於這段詩句的分析，下列敘述何者正確？
- (A) 指出鹿耳門一帶因為有堅硬的鐵板沙，所以鯤魚時常擱淺於此地
- (B) 說明鹿耳門一帶沙洲數量眾多，彷彿從海口一路綿延到天邊
- (C) 描寫鹿耳門外鯤魚戲水以致海浪滔天的景象，暗示鯤魚的體型巨大，可能帶來凶險
- (D) 呈現鹿耳門的地理特色，以及沙洲激起巨浪的景象。
- 《答案》D
2. () 「賈人某，至直隸界，忽大雨雹，伏禾中。聞空中云：『此張不量田，勿傷其稼。』天霽，他田偃壞，張田獨無恙。蓋張氏積粟甚富，每春間貧民皆就貸焉。償時多寡不較，悉納之，未嘗執概取盈，故鄉人名之『不量』。」根據本文，「張田獨無恙」的原因最可能是下列何者？
- (A) 張氏行善積德，得到護佑
- (B) 貧民虔誠祈願，感動上天
- (C) 張氏田產甚多無法丈量，看不出損失
- (D) 賈人福澤深厚，連帶使張田倖免於難。【113 教育會考】
- 《答案》A
3. () 在〈火車與熱氣球〉一文中，作者列舉許多古今行旅之例，下列說明何者與作者舉例的用意最接近？
- (A) 以兒時全家從臺北到日月潭旅行，天亮時出發卻近黃昏才到達為例，說明臺灣地形特殊，東西向來往不易的特色
- (B) 以蘇軾的詩作〈和子由澠池懷舊〉中，當年蘇家兄弟旅途困厄幸得老和尚招待一事，說明社會上不乏善心人士，處處充滿溫情
- (C) 以《西遊記》裡，唐僧與徒弟取經途中遭遇許多妖魔精怪為例，說明在求「道」的過程中，本會歷經種種挑戰與險阻
- (D) 以〈為學一首示子姪〉中，富和尚對於窮和尚成功往返南海而面露愧色一事，說明人之所以輕視他人，往往是出自於內心深處的自卑感。
- 《答案》C
4. () 〈鹿耳門〉：「任教巨舶難輕犯，天險生成鹿耳門。」關於這段詩句的含義，下列說明何者正確？
- (A) 鹿耳門地勢陡峻，沿海貿易的巨型商船停泊時往往險象環生
- (B) 鹿耳門是天然形成的險要之地，任使巨大的船艦也難以輕易進犯
- (C) 鹿耳門地處蠻荒尚未開化，來往船隻多不願進入以避免危險
- (D) 鹿耳門擁有鬼斧神工的天然美景，行經此地的遊船都會停下來欣賞。
- 《答案》B
5. () 關於〈聊齋志異選一種梨〉的內容，下列敘述何者正確？
- (A) 鄉人因車上的梨所剩不多，故不願施捨給道士
- (B) 道士會施法種梨，是想藉此賺取錢財
- (C) 道士一發現鄉人夾雜在人群中觀看，便快速將梨樹砍斷
- (D) 鄉人最後才知道道士分送的是自己的貨品，但已無法追究。
- 《答案》D
6. () 〈蔗田〉：「網載都來糖廊裡，只留蔗葉餉群犀。」關於這段詩句的含義，下列說明何者正確？
- (A) 詳細敘述甘蔗採收的方法，以及糖廠製糖的過程
- (B) 描寫甘蔗收穫的情形，表現豐收的忙碌與喜悅
- (C) 感嘆農人即便收穫豐碩，仍不願善待辛勤工作的牛隻
- (D) 說明農人收成後只分配到蔗葉，凸顯糖廠對他們的壓榨。
- 《答案》B
7. () 〈火車與熱氣球〉：「或許，熱氣球這種飛行器，是專門載著尚有童心的人，飛往其他交通工具都無法到達的王國，就像童年的夢。」關於這段文字的含義，下列敘述何者最恰當？
- (A) 說明熱氣球藉由空中飛行的方式，能夠迅速抵達目的地，其效率遠勝地面上的任何交通工具
- (B) 認為乘坐熱氣球旅行，猶如童話中的浪漫想像，是懷抱赤子之心的人最美麗的夢想
- (C) 說明熱氣球可擺脫空間的局限，不受地形或建物影響，遊賞的區域較任何交通工具都來得寬廣
- (D) 認為熱氣球基於負重的考量，僅適用於為兒童實現搭乘的夢想，然其飛行的高度與距離皆有限制。
- 《答案》B

8. ()〈蔗田〉：「蔗田萬頃碧萋萋，一望龍蔥路欲迷。」關於這段詩句的分析，下列敘述何者正確？

- (A) 蔗田占地遼闊，阻礙人車通行，造成生活不便
- (B) 蔗田一望無際，數大便是美的景致令人著迷，故時常成為繪畫題材
- (C) 蔗田青翠茂盛，可見農人收成豐足，處處欣欣向榮
- (D) 蔗田過於茂密，使農人收割甘蔗時經常在田裡迷路。

《答案》C

9. ()關於〈二十年後〉一文中吉米的形象，下列敘述何者錯誤？

- (A) 足智多謀，刻意與通緝犯交談許久，從中套出對方犯案的證據
- (B) 做事盡責，在寒風颼颼的天氣，仍挨家挨戶仔細巡查
- (C) 沉穩內斂，發現老友是通緝犯，沒有立刻揭露自己的身分
- (D) 公私分明，即使老友是通緝犯，仍通知便衣警察前來逮捕。

《答案》A

10. ()關於〈天淨沙秋思〉一曲的說明，下列何者正確？

- (A) 「枯藤老樹昏鴉」構築出蕭索的景象，寄寓聽聞父母病逝的悲痛
- (B) 「小橋流水人家」透露出溫馨的氣息，反襯遊子在外漂泊的憂傷
- (C) 「古道西風瘦馬」描寫旅途所見，蘊含對目的地的期待
- (D) 「夕陽西下，斷腸人在天涯」敘寫迷路的狀況，帶出遊子不安的心情。

《答案》B

11. ()〈沉醉東風漁父詞〉：「黃蘆岸白蘋渡口，綠楊堤紅蓼灘頭。」這兩句運用了黃、白、綠、紅這些顏色字，其所表現出來的意境，不包括下列何者？

- (A) 絢麗多彩的景致
- (B) 充沛盎然的生機
- (C) 變化多端的人生
- (D) 隱逸生活的愉悅。

《答案》C

12. ()關於〈天淨沙秋思〉與〈沉醉東風漁父詞〉這二首曲的比較，下列說明何者正確？

- (A) 曲中主角皆因遠離家鄉而悲傷不已
- (B) 皆先極力描寫自然美景再敘寫人事
- (C) 皆藉外在景物抒發內心的孤寂
- (D) 末兩句皆可窺見曲中所蘊含的主旨。

《答案》D

13. ()關於〈火車與熱氣球〉一文的内容，下列敘述何者正確？

- (A) 作者以實際的生活體驗，呈現出臺灣在交通建設方面今昔發展變化的對比
- (B) 列舉不同國家的旅遊事例，表達旅行的困難度會因交通工具的發展而異
- (C) 比較火車與熱氣球的構造差異，闡述運輸科技的演進歷程
- (D) 分述火車與熱氣球的特點，用以說明腳踏實地與不切實際的不同人生態度。

《答案》A

14. ()〈二十年後〉：「西部來的人打開遞給他的小紙條。開始讀時，手還穩穩的拿著，讀完時，手卻微微顫抖。」關於這段文字的說明，下列敘述何者正確？

- (A) 由鮑伯的手穩穩的拿著紙條，可見他無懼法律制裁的傲慢
- (B) 鮑伯讀紙條時發現自己的刑期非常重，所以嚇得手不斷顫抖
- (C) 鮑伯一邊讀一邊思索如何逃脫，所以手部動作有了細微的變化
- (D) 鮑伯沒想到是吉米通報警方抓他，雙手因震驚而發抖。

《答案》D

15. ()「一個人存在的目的，必須由自己來建立。不過，我認為這個時代的年輕人，已經不再從自己的心底深處、從熾熱的靈魂出口構築存在的目的。頂多把存在的目的替換成『夢想』這個字眼，拿來高唱口號，將自身的淺薄暫且黏附在電視或雜誌頁面上，任其左右而已。」根據這段文字，下列何者最符合作者對「這個時代的年輕人」的觀點？

- (A) 思考存在的目的卻忽略了夢想
- (B) 無法真誠的建立自我存在的目的
- (C) 把終極目標建立在如何製造輿論話題
- (D) 因環境變化使熾熱的靈魂找不到出口。【111教育會考(補考)】

《答案》B

16. ()關於〈聊齋志異選一種梨〉的寫作手法，下列敘述何者正確？

- (A) 採倒敘法，先揭示鄉人的下場，再描述道士種梨的精采場面
- (B) 透過第一人稱敘述，讓讀者知道鄉人的想法
- (C) 俐落描寫梨樹從發芽到結果的過程，極具速度感，凸顯道士法術的高妙
- (D) 藉由真實的歷史事件，闡明過於吝嗇必遭懲戒的下場。

《答案》C

17. ()根據〈二十年後〉一文，吉米不親自逮捕鮑伯，而假手便衣警察的原因為何？

- (A) 鮑伯身材高大，吉米沒把握能加以制伏
- (B) 鮑伯十分信任吉米，讓吉米一時下不了手
- (C) 吉米認為逮捕通緝犯不在他的工作範圍內，應轉交專人處理
- (D) 吉米為人寬厚，想把逮捕通緝犯的功勞歸諸他人。

《答案》B

18. ()根據〈二十年後〉一文，鮑伯是藉由什麼線索而識破眼前的人並非吉米？

- (A) 對方的身高比吉米高了兩三吋
- (B) 對方說話的聲音比吉米低沉很多
- (C) 對方的鼻子外形與吉米不同
- (D) 對方的髮色與吉米差異甚大。

《答案》C

19. ()「有道士講經茅山，聽者數百人。有自外入者，大罵曰：『道士奴！天正熱，聚眾造妖何為？』道士起謝曰：『居山養徒，資用乏，不得不爾。』罵者怒少解，曰：『須錢不難，何至作此！』乃取釜灶杵白之類，得百餘斤，以少藥鍛之，皆為銀，乃去。後數年，道士復見此人從一老道士，鬚髮如雪，騎白驢，此人腰插一驢鞭從其後。道士遙望叩頭，欲從之。此人指老道士，且搖手作驚畏狀，去如飛，少頃即不見。」根據這則故事，下列關於「自外入者」的敘述何者正確？

- (A) 責罵道士搶走自己的信徒
- (B) 聽完道士說明後更加生氣
- (C) 被道士收買，為道士斂財
- (D) 擁有特殊藥物，鍛物成銀。【109 教育會考】

《答案》D

20. ()根據〈聊齋志異選一種梨〉，下列何者不是道士施法所造成的結果？

- (A) 於臨路店索得沸瀋
- (B) 有勾萌出，漸大。俄成樹，枝葉扶疏
- (C) 條而花，條而實，碩大芳馥，纍纍滿樹
- (D) 車上一靶亡。

《答案》A

21. ()「蒲松齡《聊齋志異》共492篇，包括兩種作品：一是幾百字甚至幾十字的奇聞逸事，另一是長達數千言的故事，是真正的短篇小說，兩種作品各占一半。《聊齋志異》真正的短篇小說能從前人作品找到「本事」(原型)的約百篇，意即近二分之一的篇章不是作者獨創，而是改寫前人作品。魯迅說此書「亦頗有從唐傳奇轉化而出者。」關於文中《聊齋志異》的說明，下列何者最恰當？

- (A) 有些唐傳奇故事是蒲松齡寫作的來源
- (B) 找不到原型的篇章數不及全書的一半
- (C) 全書能找到原型的作品大多是奇聞逸事
- (D) 書中的短篇小說篇幅僅幾百甚至幾十字。【114 教育會考】

《答案》A

22. ()關於〈天淨沙秋思〉與〈沉醉東風漁父詞〉這二首曲的寫作手法，下列敘述何者正確？

- (A) 二者均使用襯字，使文意更加完整
- (B) 二者均換韻一次，以符合曲牌的規定
- (C) 〈天淨沙秋思〉以各種景物組成極具感染力的蕭瑟秋景
- (D) 〈沉醉東風漁父詞〉以各種繽紛的景物反襯漁父捕魚的艱辛。

《答案》C

23. ()關於〈聊齋志異選一種梨〉中人物的對比，下列敘述何者正確？

- (A) 以鄉人的怒罵不絕，對比道士的軟弱可欺
- (B) 以店夥計主動買梨送道士的大方，對比鄉人堅持不願贈梨的吝嗇
- (C) 以道士的擅長種梨，對比鄉人的庸碌無能
- (D) 以道士種梨送人的慷慨行為，對比圍觀群眾的自私自利。

《答案》B

24. ()關於〈二十年後〉的敘述，下列何者正確？

- (A) 利用人物感情衝突製造情節高潮—兩位有情有義的朋友竟相互背叛，斷絕關係
- (B) 轉折點安排巧妙—正當兩人歡喜相會時，吉米突然以警察身分逮捕鮑伯
- (C) 描寫人物刻意製造前後對比的效果—吉米一開始盡忠職守，最後卻徇私枉法
- (D) 結局出人意料—好友二十年後終於相聚，情節卻急轉直下，令人震驚。

《答案》D

25. ()關於〈沉醉東風漁父詞〉一曲的說明，下列何者正確？

- (A) 由「沉醉東風」可知本曲描寫的是春日之景
- (B) 曲中的「忘機友」指的是白鷺與沙鷗
- (C) 由「傲殺人間萬戶侯」可知當時的大官狂妄傲慢，令漁父深惡痛絕
- (D) 全曲表現出漁父苦中作樂的生活態度。

《答案》B

屏東縣恆春國民中學 114 學年度第二學期九年級英語科畢業補考(題庫)

1. She _____ English every day. (A) study (B) studies
2. The foreigner _____ Chinese for 5 years. (A) learn (B) has learned
3. When the baby cried, his father _____ a bath. (A) took (B) was taking
4. The typhoon _____, so we have to prepare some food. (A) come (B) is coming
5. We are in the library, so please _____ quiet. (A) are (B) be
6. _____ touch any paintings in the museum. (A) Don't (B) No
7. Kevin studied _____ in my class before. (A) harder (B) the hardest
8. Jogging is _____ than swimming in Taiwan. (A) popular (B) more popular
9. I know _____ the earth goes around the sun. (A) that (B) it
10. Can you tell me why _____ late again? (A) you are (B) are you
11. If it _____ tomorrow, we won't go hiking outside. (A) will rain (B) rains
12. My teacher _____ me finish my homework before school. (A) made (B) asked
13. We saw many flies _____ around the food. (A) flying (B) to fly
14. The bike _____ by Bob. (A) broken (B) was broken
15. The girls _____ are standing over there are Paul's sisters. (A) who (B) which
16. There _____ some monkeys in the trees. (A) is (B) are
17. There are not _____ zebras in the zoo. (A) some (B) any
18. The T-shirt _____ me NT\$390. (A) cost (B) took
19. Cleaning the house _____ us two hours. (A) took (B) spent
20. I _____ NT\$250 on the shorts. (A) spent (B) cost
21. My mom _____ NT\$1980 for the glasses. (A) cost (B) paid
22. Josh wants _____ a businessman. (A) being (B) to be
23. Students have to finish _____ their classroom before going home. (A) cleaning (B) to clean
24. Tammy is a dirty boy ; he forgot _____ a bath last night. (A) taking (B) to take
25. _____ to music can make me happy. (A) Listening (B) Listen
26. It is fun for Kevin _____ by himself. (A) cooking (B) to cook
27. The music sounds _____. (A) sad (B) sadly
28. _____ of my parents are doctors. (A) Two (B) Both
29. I have two sisters. One is an engineer, and _____ is a police officer. (A) other (B) the other
30. _____ Jim loves the singer very much, he doesn't have time to listen to his songs. (A) although (B) but

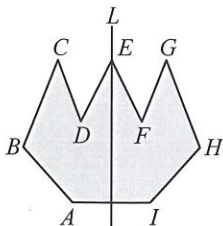
參考答案:1-10BBBBB,ABBAA, 11-20 BAABA,BBAAA, 21-30 BBABA,BABBA

屏東縣立恆春國中 114 學年度第二學期九年級數學科補考 題庫卷

| | | | |
|--------------|----------------|-----|-------|
| 命題教師：黃群展 教師 | 班級：九 年 _____ 班 | 分數： | 家長簽名： |
| 審題教師：高菁穗 教師 | 座號：_____ | | |
| 命題範圍：1-1-2-1 | 姓名：_____ | | |

選擇題：(每題 4 分，共 100 分)

- (B) 在數線上將 0 與 -1 兩點間的部分分成 10 等分後，得 9 個等分點，那麼由右起向左數第 6 個等分點所表示的數為何？
(A) -0.5 (B) -0.6 (C) -5 (D) -6
- (B) 下列哪一個算式的結果為正數？
(A) $(-2)+(-2)+(-2)$ (B) $-(-2)\times(-2)\times(-2)$
(C) $(-2)\times(-2)\times(-2)$ (D) $(-2)\div(-2)+(-2)$
- (C) 下列哪一個選項可算出方程式 $x\div 3+7=16$ 的解？
(A) $x=16-7\div 3$ (B) $x=(16-7)\div 3$
(C) $x=(16-7)\times 3$ (D) $x=(16-7)\times \frac{1}{3}$
- (C) 已知一方程式 $2y-3=\frac{1}{3}y+5$ ，若將等號兩邊同乘以 3，則下列何者正確？
(A) y 的值會變大 3 倍 (B) y 的值會縮小 $\frac{1}{3}$ 倍
(C) y 的值不變 (D) y 的值是 3
- (A) 若 x 、 y 皆為正整數，則二元一次方程式 $x+4y=24$ 的解有多少組？
(A) 5 組 (B) 6 組 (C) 7 組 (D) 無限多組
- (D) 已知坐標平面上一點 $M(3, -4)$ ，若從 M 點出發，先向左 5 單位，再向上 4 單位，最後到達 N 點，則 N 點的坐標為何？
(A) $(8, -8)$ (B) $(8, 0)$ (C) $(-2, -8)$ (D) $(-2, 0)$
- (B) 判斷下列二元一次方程式的圖形，哪一個會通過原點？
(A) $3x+2y=1$ (B) $\frac{1}{3}y=-2x$ (C) $-x+5y=-3$ (D) $y=\frac{7}{6}x-2$
- (A) 下列各選項中，哪些是不等式 $3x-7\leq 9$ 的解？
(A) -2 (B) 8 (C) 6 (D) 7
- (C) 下圖是以直線 L 為對稱軸的線對稱圖形，其中 A 、 B 、 C 、 D 的對稱點分別為 I 、 H 、 G 、 F ，則直線 L 不是下列哪一個線段的中垂線？
(A) \overline{AI} (B) \overline{CG} (C) \overline{DH} (D) \overline{EH}



- (C) 已知 A 為一多項式，且 $A\div(x+3)$ 的餘式為 0； $A\div(x+1)$ 的餘式為 6； $A\div(2x+5)$ 的餘式為 0。則下列敘述哪一個選項是正確的？
(A) $x+3$ 是 A 的倍式 (B) $x+1$ 是 A 的因式
(C) $x+1$ 是 $A-6$ 的因式 (D) A 是 $2x+5$ 的因式

23. (A) 已知下列有一組交叉線段的端點連接後為平行四邊形，則這個交叉線段應該是哪一組？



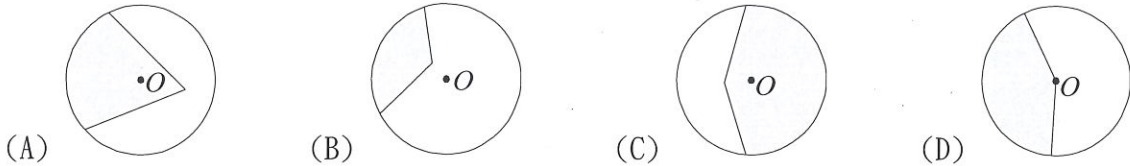
24. (B) 若 $x:z=2:3$, $y:z=5:3$, 則下列敘述何者錯誤？

- (A) $x:y:z=2:5:3$ (B) $2x=5y=3z$
 (C) $\frac{x}{2}=\frac{y}{5}=\frac{z}{3}$ (D) $15x=6y=10z$

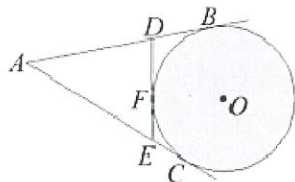
25. (D) 下列各組圖形中，哪一組圖形不一定相似？

- (A) 任意兩個正三角形 (B) 任意兩個等腰直角三角形
 (C) 任意兩個正方形 (D) 任意兩個菱形

26. (D) 下列各圖形中， O 為圓心，則鋪色部分哪一個是扇形？



27. (C) 如下圖， \overline{AB} 、 \overline{AC} 、 \overline{DE} 分別切圓 O 於 B 、 C 、 F 三點，則下列何者不一定正確？

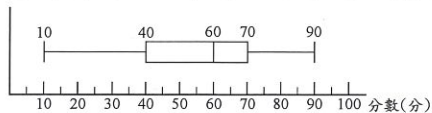


- (A) $\overline{DB}=\overline{DF}$ (B) $\overline{EF}=\overline{EC}$ (C) $\overline{DF}=\overline{EF}$ (D) $\overline{AB}=\overline{AC}$

28. (C) 關於三角形的外心，下列哪一個敘述一定正確？

- (A) 直角三角形的外心在三角形的外部 (B) 等腰三角形的外心在三角形的外部
 (C) 鈍角三角形的外心在三角形的外部 (D) 銳角三角形的外心在三角形的外部

29. (C) 附圖是 906 班某次數學考試分數的盒狀圖，試問由此盒狀圖可確認下列哪些統計量？



- (甲) 算術平均數 (乙) 中位數 (丙) 眾數 (丁) 全班人數 (戊) 四分位距 (己) 全距
 (A) 甲、丙、戊 (B) 甲、丁、己 (C) 乙、戊、己 (D) 乙、丁、戊

30. (A) 甲、乙、丙三人結伴旅遊，夜晚投宿於民宿時，發現正好只剩雙人床及單人床各一張，於是三人以抽籤決定床位，每支籤被抽中的機會都相等，則甲、丙兩人合睡雙人床的機率是多少？

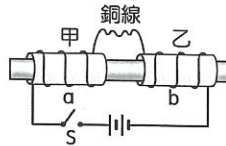
- (A) $\frac{1}{3}$ (B) $\frac{2}{3}$ (C) $\frac{1}{2}$ (D) 1

31. (D) 投擲一顆材質均勻的骰子兩次，下列三個事件所發生的機率大小關係為何？

- 甲事件：第一次出現 1 點，第二次出現 2 點
 乙事件：第一次出現 2 點，第二次出現 3 點
 丙事件：第一次出現 3 點，第二次出現 4 點

- (A) 甲事件發生的機率較大 (B) 乙事件發生的機率較大
 (C) 丙事件發生的機率較大 (D) 三個事件發生的機率相同

- (A) 1. 臺灣冬天盛行的東北季風，會為下列何處帶來較多的雨水？ (A)基隆 (B)臺中 (C)高雄 (D)屏東
- (C) 2. 下列電器中，主要是利用電流熱效應原理的有哪些？(甲)電話；(乙)電鍋；(丙)電熨斗；(丁)馬達；(戊)電燈。
(A)甲乙丙 (B)乙丙丁 (C)乙丙戊 (D)甲丙戊。
- (B) 3. 如圖所示，a、b 兩線圈固定在甲、乙兩塑膠套筒上，兩套筒在同一根光滑的水平直桿上，能自由滑動，且 a、b 兩線圈以一可自由彎曲的銅線串聯。若將開關 S 按下，關於甲、乙兩套筒運動趨勢的敘述，何者正確？



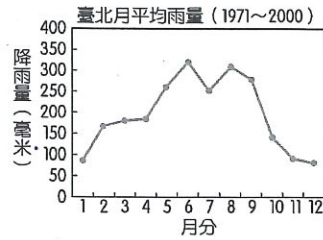
- (A)都不動 (B)甲向左、乙向右 (C)甲向右、乙向左 (D)兩者往同方向移動。
- (D) 4. 若地球表面沒有大氣的存在，則地球將會發生什麼改變？ (A)日食與月食的現象不再出現 (B)地球再也沒有四季變化 (C)將可看到更多美麗的流星 (D)各種天氣現象會全部消失。
- (C) 5. 全球暖化造成海冰大量融化，最可能發生下表中哪一種連鎖效應？

| 項目 | 地球反照率 | 地表效應 | 氣溫 |
|----|-------|---------|----|
| 甲 | 提高 | 吸收更多太陽能 | 上升 |
| 乙 | 提高 | 反射更多太陽能 | 下降 |
| 丙 | 降低 | 吸收更多太陽能 | 上升 |
| 丁 | 降低 | 反射更多太陽能 | 上升 |

- (A)甲 (B)乙 (C)丙 (D)丁。
- (C) 6. 若今天將大氣層中的水氣全部除去，則下列何種現象會消失？ (A)動物與植物的呼吸作用 (B)地表隆起的壯麗山脈 (C)陰、雲、雨等天氣現象 (D)南北極上空的極光。
- (D) 7. 下列何者不是海水運動而造成的現象？ (A)潮汐 (B)波浪 (C)洋流 (D)颱風。
- (D) 8. 若兩金屬棒各自以某端點互相靠近時，兩棒會有排斥現象，關於此兩金屬棒的推論，何者正確？ (A)可能一為鐵棒，一為銅棒 (B)改以金屬棒的另兩端相互靠近，則會相吸 (C)兩棒均不具磁性 (D)兩棒均具有磁性。
- (D) 9. 減緩海洋酸化的方法，下列哪一項最有效？ (A)在室內活動，多使用空調 (B)注入大量淡水進入海洋，稀釋海水 (C)持續將鹼性物質緩緩加入海中 (D)盡量使用綠色能源，減少二氧化碳排放。
- (B) 10. 臺灣年平均降雨量高出世界平均值，卻仍被列為世界缺水國家，其原因不包括下列哪一項？ (A)降雨集中在夏秋二季 (B)水庫數量過少 (C)坡陡流急，水停留在陸地期間短 (D)地勢陡峭，水不易滲入地下形成地下水。
- (B) 11. 下列有關人類防止全球暖化的努力，何者較不適當？ (A)各國簽訂協議，降低二氧化碳排放量 (B)為減少核能發電，改用力火發電 (C)設計節省能源的各式電器 (D)使用省油、效率更高的汽車引擎。

(D) 12. 全球暖化為一連串的動態改變，下列何種改變與全球暖化較沒有關聯？ (A)北極浮冰融化 (B)海平面上升 (C)大氣中二氧化碳濃度增加 (D)地震頻繁。

(B) 13. 附圖為 1971 至 2000 年間北測站的月平均降雨量圖，由附圖可以看出，臺北測站逐月的降雨變化出現兩個高峯值，試問造成此兩降水高峯的主要天氣現象為何？



(A)梅雨、冷鋒 (B)梅雨、颱風 (C)春雨、梅雨 (D)颱風、冷鋒。

(D) 14. 對於磁鐵性質的敘述，下列何者正確？ (A)並非每一段磁鐵皆同時具有 N 極與 S 極 (B)磁鐵皆能吸引含有金屬材質的物體 (C)銅棒只要靠近磁鐵就可能被磁化 (D)磁鐵大多由磁性材料所構成。

(D) 15. 造成地球的溫室效應現象，主要原因為何？ (A)大氣中的溫室氣體吸收太陽的輻射 (B)大氣中的臭氧吸收紫外線 (C)因臭氧層的破洞，陽光中的紫外線直射地球表面所造成 (D)大氣中的溫室氣體吸收地表釋放的輻射。

(B) 17. 將稀鹽酸滴在石灰岩所產生的氣體於大氣中大量增加，將加劇下列哪一種全球性變遷效應？ (A)冰期來臨 (B)溫室效應 (C)海平面下降 (D)水質優養化

(A) 18. 臺灣的乾旱通常是在什麼情況下最先要提出預警？ (A)今年的颱風帶來雨水較少時 (B)今年的梅雨期來得太早時 (C)今年的寒流來得多時 (D)連續五年沒有乾旱時。

(B) 19. 如芳發現當封閉線圈內的磁場發生變化會產生電流，他想要使此感應電流變大，那麼他可以考慮下列何種作法？ (A)轉動檢流計的指針 (B)增加每單位長度內的線圈圈數 (C)使磁鐵保持靜止於線圈中 (D)改變磁鐵進入線圈的方向。

(A) 20. 若圖中鋒面前進方向不變，則未來幾天小島上的天氣狀況最可能為何？



(A)低溫多雲陣雨 (B)午後雷陣雨 (C)高溫晴朗 (D)強風豪大雨。

(D) 21. 人類活動造成大氣中的二氧化碳遽增，這主要是人類加快釋放自然儲存在何處的碳所致？ (A)地核中儲存的碳 (B)海水中溶解的大量二氧化碳 (C)地函中巨量的碳儲存 (D)森林和化石燃料儲存的碳。

(D) 22. 下列敘述何者錯誤？ (A)兩磁鐵互相靠近時，若是同名極會彼此排斥，若是異名極則會互相吸引 (B)被磁化後的鐵釘無法長期保有磁性的稱為暫時磁鐵 (C)磁力是一種超距力，且 N 極或 S 極不能單獨存在 (D)磁性物質受外在磁力的影響而具有磁性，遠端形成異名極。

(B) 23. 長直導線上通有電流時，其所產生的磁場強度和此電流的大小為何？ (A)成反比 (B)成正比 (C)平方成反比 (D)平方成正比。

(B) 24. 安全用電須知其中一項為「不要同時在一個插座上使用過多的電器，以避免導致電線走火而引起火災。」

屏東縣立恆春國中 114 學年度 9 年級社會科畢業補考題庫

- A 1. 碳足跡是指各種人類活動所製造出來的碳排放量總和，可用來衡量人類活動對地球生態環境的影響。請問：下列何者是碳足跡的標籤？



- (A) (B) (C) (D)

- D 2. 臺灣在古書中曾被稱為「OO」，有一說是源於當地西拉雅族的社名，荷蘭人占領臺灣後，此兩字逐漸被臺灣所取代。請問：「OO」兩字應為何？ (A)人員 (B)小員 (C)中員 (D)大員。

- D 3. 請問：多選擇食用哪一種類型的食物對環境更友善，同時亦更健康？
(A)方型食物 (B)扇型食物 (C)梯型食物 (D)原型食物。

- B 4. 請問：下列何者是「恆春」此一地名的由來？

(A)風景優美，春光明媚 (B)氣候溫暖，四季如春 (C)事業有成，春風得意 (D)醫術了得，妙手回春。

- C 5. 「屏東」此一地名的由來有一說是與方位有關。請問：此一與方位相關的說法為何？

(A)位於亞洲的東方 (B)位於太平洋的東方 (C)位於半屏山的東方 (D)位於芝芝老師家的東方。

- D 6. 食物跨越國界的飲食全球化是現代常見的飲食型態。請問：下列哪一項臺灣常見的美食是來源於其他國家？

(A)珍珠奶茶 (B)滷肉飯 (C)鳳梨酥 (D)河粉。

- A 7. 請問：透過生產履歷，我們可以了解食物的哪一些資訊？

(A)食物的產地 (B)食物的價格 (C)生產者的年齡 (D)生產者的興趣。

- D 8. 珍妮看到課本上有一張歷史圖片，內容是 1871 年的普魯士國王在凡爾賽宮加冕為皇帝，於是「某國」就誕生了。上述的「某國」是指下列何者？ (A)法國 (B)美國 (C)義大利 (D)德國。

- C 9. 西元 1789 年，法國國王為解決法國財政問題，召開三級會議，後續卻導致法國大革命的爆發，而此國王最後亦被送上斷頭台。請問，該國王為何人？

(A)路易十四 (B)威廉一世 (C)路易十六 (D)拿破崙三世。

- C 10. 下列何人主張必須以「鐵」和「血」才能完成建國大業，因而被稱為「鐵血宰相」？

(A)馬志尼 (B)華盛頓 (C)俾斯麥 (D)加富爾。

- B 11. 人們常以「慘遭滑鐵盧」來形容某人在做事時遭遇失敗。請問：這個典故的由來，與哪位歷史人物最有關係？

(A)梅特涅 (B)拿破崙 (C)華盛頓 (D)路易十六。

- C 12. 西元 1823 年，當時的美國總統發表了哪一個宣言，聲明歐洲國家勿干預中南美洲的獨立運動？

(A)《人權宣言》(B)《獨立宣言》(C)《門羅宣言》(D)《開羅宣言》

- C 13. 一個國家透過自身軍事、政治、經濟、文化等優勢力量控制或影響其他國家，這種行為稱為？

(A)民族主義 (B)保守主義 (C)帝國主義 (D)自由主義。

- C 14. 附圖為十九世紀的一幅宣傳海報，內容賦予白種人「送黑人到學校接受文明教化」的任務。請問：這張海報出現的歷史背景與何種思想有關？

(A)民族主義 (B)達爾文主義 (C)社會達爾文主義 (D)自由主義

- B 15. 網路世界雖然提供人類很大的便利，但若使用不當反而會造成許多傷害，下列何者並非使用網路應有的行為？(A)與國外的朋友視訊 (B)散布不實的消息 (C)觀看英文教學頻道 (D)在社群網站抒發心情。



- A 16. 小薰在網路上下載了偶像的歌曲，並且將下載的音樂燒錄成光碟，拿到學校賣給同學。請問她的行為可能違反下列何項法律的規定？

(A)著作權法 (B)商標法 (C)專利法 (D)個人資料保護法。

- B 17. 行政院設置「即時新聞澄清平臺」，也與社群媒體 LINE 合作，推出「LINE 謠言查證」，最主要的目的應為下列何者？

(A)促進新聞台的收視率 (B)防止假新聞誤導民眾 (C)做為宣導政策的管道 (D)提供發表意見的平台。

- D 18. 在資訊發達的時代，對於公共事務，每個人民都有機會透過各種傳播媒體發表自己的想法。請問這是何種權利的運用？

(A)集會自由權 (B)結社自由權 (C)參政權 (D)媒體接近使用權。

- C 19. 國中生可以透過許多方式關心社會、表達意見、貢獻力量，影響國家、社會未來發展。國中生可以透過何種方法參加公共事務？

(A)參與公民投票 (B)參選民意代表 (C)透過網路討論公共事務 (D)肉搜政治人物的個資。

- D 20. 下列哪一種行為較沒有侵犯智慧財產權的疑慮？
(A)私下側錄放映中的電影 (B)將連續劇剪成精華短片上傳網路平台
(C)在餐廳播放韓國團體歌曲 (D)仿作名畫「蒙娜麗莎的微笑」做成教室布置。
- C 21. 請問：幼年人口是指0歲至幾歲？
(A)6歲 (B)12歲 (C)14歲 (D)18歲。
- C 22. 芝芝老師在連假前往小琉球旅遊。請問：小琉球屬於哪一種類型的島嶼？
(A)大陸島 (B)火山島 (C)珊瑚礁島 (D)可愛巧虎島。
- B 23. 臺灣地形豐富。請問：下列哪兩種地形是臺灣主要的人口聚集區？
(A)平原、台地 (B)平原、盆地 (C)丘陵、盆地 (D)山地、丘陵。
- A 24. 疆域的範圍界定，包括了陸地面積及海洋領域。請問：由一般國際公法所界定，從領海基線向外延伸12浬的海洋領域範圍稱為何？
(A)領海 (B)經濟海域 (C)公海 (D)七武海。
- D 25. 請問：當船隻停泊在下列哪一個臺灣的港口時，可以欣賞到岬灣海岸的特色？
(A)高雄港 (B)臺中港 (C)花蓮港 (D)基隆港。
- A 26. 請問：下列哪一種工廠，因考量原料的特性，會將工廠蓋得較靠近原料產地？
(A)蔗糖 (B)麵包 (C)報紙 (D)煉鋁。
- D 27. 請問：下列哪一個性別比所表示的男性人數遠大於女性人數？
(A)80 (B)96 (C)102 (D)130。
- C 28. 美國建國以來常秉持著避免捲入戰爭的策略，但在1917年，美國卻宣布加入第一次世界大戰的戰局，其參戰的導火線為何？
(A)美國政要被人刺殺 (B)日本偷襲珍珠港 (C)德國採行無限制潛艇政策 (D)俄國發生革命。
- D 29. 第一次世界大戰結束後，美國總統提出了「十四點原則」，希望能夠處理戰後的世界格局。雖然他的努力失敗了，但是在當時他主張的哪一項原則使得列強控制下的各個殖民地得以紛紛起而要求自治，獨立建國？
(A)民族共和 (B)帝國主義 (C)保守原則 (D)民族自決。
- B 30. 下列哪一事件的爆發，使第二次世界大戰的亞、歐戰場合而為一？
(A)慕尼黑會議 (B)珍珠港事變 (C)諾曼第登陸 (D)七七事變。
- A 31. 1929年10月下旬，美國因哪一事件而引發空前的經濟危機，導致世界經濟大恐慌？
(A)紐約股票狂跌 (B)全國工人大罷工 (C)總統宣布降低關稅 (D)國會通過總統彈劾案，政治動盪不安。
- C 32. 奧塞之間的衝突之於第一次世界大戰，猶如何者之於第二次世界大戰？
(A)諾曼第登陸 (B)九一八事變 (C)德侵波蘭 (D)日襲珍珠港。
- B 33. 「北大西洋公約組織、華沙公約組織、韓戰、越戰、古巴危機」，上述組織與事件都發生在下列哪一時期？
(A)第一次世界大戰期間 (B)美、蘇冷戰時代 (C)第二次世界大戰期間 (D)冷戰時代結束後。
- C 34. 下列何者領導納粹黨，以反共、恢復社會秩序等為號召，爭取人民支持，在二戰爆發前積極從事經濟建設、重整軍備？
(A)列寧 (B)史達林 (C)希特勒 (D)墨索里尼。
- B 35. 近年來我國一直被排拒在國際社會之外，其主要的原因為下列何者？
(A)經濟實力落後其他國家 (B)中國打壓我國國際地位
(C)跨國犯罪案件層出不窮 (D)遭西方列強的文化歧視。
- C 36. 新冠疫情期間，我國發起了「護臺灣、助世界」捐助口罩活動，捐出近400萬片口罩給疫情嚴峻的國家，展現我國國民人道關懷的精神，也展現我國在防疫上的硬實力。請問上述我國的行動屬於下列何種國際互動方式？
(A)國際合作 (B)國際交流 (C)國際援助 (D)國際衝突。
- B 37. 國際組織依據參與成員的性質分類，可分為「政府國際組織」和「非政府國際組織」，下列關於上述分類的配對何者正確？
(A)綠色和平—政府國際組織 (B)世界貿易組織—政府國際組織
(C)無國界醫生—政府國際組織 (D)亞太經濟合作會議—非政府國際組織。
- A 38. 請問下列哪段新聞內容最能感受到「全球關連」的現象？
(A)伊朗封鎖荷姆茲海峽，導致全球油價大幅上升 (B)英國女王伊麗莎白離世，全國人民心痛哀悼
(C)日本車廠響應減碳，推出新型電動車 (D)韓團成員周子瑜首次在台灣演出，門票搶購一空。
- D 39. 短影音與社群媒體讓不同國家的流行文化迅速傳播。上述狀況加速了哪一種現象？
(A)跨國犯罪增加 (B)族群衝突加深 (C)國際貿易頻繁 (D)強勢文化擴散。
- D 40. 2025年美國推動「對等關稅」，對多國商品加稅，造成全球物價上升。這種現象最能說明全球化的哪一個特徵？
(A)各國經濟完全獨立 (B)貿易與政治無關 (C)匯率變動影響交易 (D)國際經濟彼此影響。

屏東縣立恆春國中 114 學年度第二學期九年級綜合領域補考 試題卷

| | | | |
|--------------|-----------------|-----|-------|
| 命題教師：薛懷琦 老師 | 班級：_____年_____班 | 分數： | 家長簽名： |
| 審題老師：張婕珍老師 | 座號：_____ | | |
| 命題範圍：九年級綜合領域 | 姓名：_____ | | |

※ 作答說明：

1. 本試卷（含作答紙）共 1 張 1 頁，請同學檢查是否有誤。
2. 試卷中若印刷不清，請立即向監考老師反應，更換試卷。
3. 考試過程，嚴禁交談，請遵守考場規則。
4. 其他。（請出題教師補充）

試題：

一、 請寫出綜合領域有哪三個科目？(30%)

答：

二、 承上題，請任選其中一個科目寫出這一年來您上課時印象最深刻的單元（或活動）名稱，並說明原因（50 字以上）。(70%)

答：

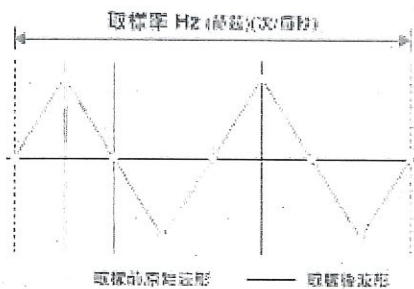
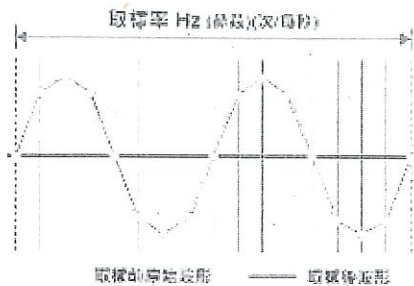
114 學年_上學期_國中資訊科技測驗_九年級 命題教師：吳宗憲

一、單選題：

- () 1. 在 Scratch 3 軟體中，「建立一個清單」功能，於選單中哪一項內？ (A)動作 (B)事件 (C)控制 (D)變數
- () 2. 下列何者為「文字檔」檔案？ (A)file.jpg (B)text.bmp (C)study.sb3 (D)list.txt
- () 3. 資料處理的程序，不包含下列哪一項？ (A)輸入 (B)儲存 (C)處理 (D)輸出
- () 4. 電腦程式中，下列哪項不是資料處理的文書應用軟體？ (A)Microsoft Office (B)小畫家 (C)Google Calc (D)LibreOffice
- () 5. 在操作 GIMP 軟體中，使用哪項功能可以「改變整體圖片色調」？ (A)顏色->色溫 (B)顏色->曝光 (C)影像->色彩管理 (D)影像->色彩精準度
- () 6. 雯雯想要與他的團隊共同編輯一個文件，以便大家可以同時進行協作工作，他將檔案的共用權限都設為「編輯者」。他的團隊有四人，其中三人都可以正常使用，但是卻有一人怎麼也無法和群組人員共編文件，可能是發生什麼問題？ (A)沒有使用付費功能 (B)文件的共編權限設錯了 (C)電腦壞了 (D)打錯了該員的 Email 信箱
- () 7. 在 ASCII 編碼方式中，字元「a」的編碼為 97，請問「x」的編碼為何？ (A)120 (B)121 (C)119 (D)118
- () 8. 在雲端硬碟某個文件的共用權限中，顯示編輯者，則該帳號可以進行以下哪項操作？ (A)只能查看文件的內容 (B)編輯文件的內容 (C)僅可以下載文件 (D)只能加備註
- () 9. 在數位資料表示中，下列何者有誤？ (A) $(81765)_8$ (B) $(01000101)_2$ (C) $(36847)_{10}$ (D) $(11E)_{16}$
- () 10. 下列何者不是攝錄影機或手機錄製的影音媒體檔格式？ (A).jpg (B).mts (C).mov (D).mpg
- () 11. 下列何者為網路傳輸速度的正確表示？ (A)100Mbps (B)100KBps (C)100dpi (D)100pix
- () 12. 下列何者是影像編輯軟體？ (A)GIMP (GNU Image Manipulation Program) (B)OpenShot (C)Audacity (D)Blender
- () 13. 目前常用的數位聲音取樣率為 44.1kHz，指的是？ (A)每 44.1 秒取樣一次 (B)每 1 秒內進行 44100 次取樣 (C)每 44.1 個週期取樣一次 (D)每 44100 週期取樣一次
- () 14. 小光在 Google 雲端硬碟上儲存了一份重要文件，他想與同學共享該文件，讓他們可以一起編輯。以下哪個選項描述了實現這個目的正確步驟？ (A)將文件設定為唯讀權限 (B)透過電子郵件將文件發送給同學 (C)在文件上設定共享權限並邀請同學加入 (D)在文件上設定密碼保護
- () 15. 音音使用 Openshot 完成了一段影片的編輯，現在他想要將這段影片提供給其他同學觀賞，他應該要先做什麼？ (A)匯出影片 (B)儲存專案 (C)上傳到雲端儲存空間 (D)分享到社交平台
- () 16. 以下哪一個不是 OpenShot 可以處理的功能？ (A)影片剪輯 (B)影片轉場 (C)分離音訊 (D)圖片編輯
- () 17. 於電腦中安裝雲端硬碟同步軟體的好處，何者為非？ (A)能自動同步電腦中及雲端空間的檔案 (B)能掃描病毒避免檔案中毒 (C)透過軟體介面即可設定分享 (D)指定同步項目及功能
- () 18. 在影片剪輯中，哪個功能可以添加過渡效果，使兩段影片切換不顯得太過突兀？ (A)文字特效 (B)閃光特效 (C)轉場特效 (D)色彩校正
- () 19. 下列何者為心智圖軟體的用途？ (A)幫助我們整理資料，歸納、分析相關因素 (B)瞭解個人心智狀態，能快速尋求醫生治療 (C)瞭解個人身心靈狀態，檢查睡眠品質及健康情形 (D)幫助我們能以圖表展示個人智商成績
- () 20. 「資料處理」的定義，下列何者為非？ (A)為特定目的所搜集的文字、數字 (B)將紙本資料依使用順序排放整齊 (C)將資料進行處理及分析 (D)將資料變成有用的知識或訊息的過程
- () 21. 下列何種軟體可以進行數位音效剪輯？ (A)Audacity (B)Microsoft Word (C)Google Docs (D)KKBox



- () 22. 呈上圖，這樣會搜尋到何種格式的圖片？ (A).jpg (B).tif (C).png (D).bmp
- () 23. 視訊檔案格式中，採用不同的影格率來錄製影像，所謂影格率的英文縮寫為何？ (A)DPI (Dot per second) (B)PPM (Pages per Minute) (C)IPM (Images Per Minute) (D)FPS (Frames per second)
- () 24. 下列何者為雲端共作文件的特性？ (A)所有人上傳及修改的資料是即時性的 (B)每個人僅能看到自己編修的部份，以避免資料遭他人竄改 (C)不能任意更動版面 (D)不能下載至本地端電腦再編輯
- () 25. 下列何者是音訊的編輯軟體？ (A)威力導演 (B)Audacity (C)Excel (D)GIMP
- () 26. 雲端軟體工具能相互共同協作的依據是？ (A)IP (B)身份證字號 (C)電子郵件 (D)IG 號
- () 27. 在操作 OpenShot 軟體中，使用哪項功能可以「自然地連接兩段片段」？ (A)轉場 (B)分割 (C)變形 (D)匯出
- () 28. 在 ASCII 編碼方式中，字元「0」的編碼為 48，請問「9」的編碼為何？ (A)58 (B)57 (C)56 (D)47
- () 29. 我們可以透過雲端硬碟進行線上文件共作(共同編輯)，下列哪項軟體無法進行共作？ (A)Windows 內建的「記事本」軟體 (B)Microsoft Office 2016 (C)Google Docs (D)Google Sheets



- () 30. 上圖是聲波的不同取樣頻率，下列敘述何者正確？ (A)低取樣頻率波形愈失真 (B)取樣頻率愈高，愈接近真實波形 (C)取樣是指單位時間所截取的樣本數 (D)以上皆是
- () 31. 下列何者不是影音資料數位化的優點？ (A)方便修改 (B)能於各種設備上播放 (C)方便儲存和傳送 (D)提升資料傳輸安全性
- () 32. 遊戲紀錄中有「玩家姓名」、「第一賽季勝場數」、「第二賽季勝場數」三個欄位。如果要取出第三位玩家的記錄，則清單的索引值應該設為？ (A)1 (B)2 (C)3 (D)4
- () 33. 將十進位表示法的數值 127 轉換成二進位表示法為？ (A)1111100 (B)1011111 (C)1010101 (D)1111111
- () 34. 下列何種軟體不能進行數位音效剪輯？ (A)Microsoft Word (B)Audacity (C)GoldWave (D)威力導演
- () 35. Scratch 中的何種功能可以將清單中的資料轉換為文字檔格式存到電腦中？ (A)轉換 (B)壓縮 (C)導向 (D)匯出
- () 36. 畢旅專輯的封面照可以用何種軟體製作？ (A)Premiere (B)iMovie (C)GIMP (D)威力導演
- () 37. 以下各種進位制數值轉換，十進位的值為 57？ (A) $(00111001)_2$ (B) $(77)_8$ (C) $(77)_{10}$ (D) $(57)_{16}$
- () 38. 在操作 GIMP 軟體中，使用哪項功能可以「選取範圍從『保留區域』變成『被去掉的背景區域』」？ (A)反轉 (B)變形 (C)文字工具 (D)影像平面化
- () 39. 在操作 OpenShot 軟體中，使用哪項功能可以「擷取需要的片段」？ (A)剪片工具 (B)轉場 (C)變形 (D)匯出
- () 40. 下列何者是 GIMP 的「僅保留圖片需要的部分，其餘部分刪除」的功能？ (A)加字幕 (B)去背 (C)修圖 (D)影像合成

112 學年_上學期_國中資訊科技測驗_九年級 命題教師：吳宗憲

一、單選題：每格 2.5 分、共 100 分

- 1.(D) 2.(D) 3.(B) 4.(B) 5.(A)
 6.(D) 7.(A) 8.(B) 9.(A) 10.(A)
 11.(A) 12.(A) 13.(B) 14.(C) 15.(A)
 16.(D) 17.(B) 18.(C) 19.(A) 20.(B)
 21.(A) 22.(C) 23.(D) 24.(A) 25.(B)
 26.(C) 27.(A) 28.(B) 29.(A) 30.(D)
 31.(B) 32.(C) 33.(D) 34.(A) 35.(D)
 36.(C) 37.(A) 38.(A) 39.(A) 40.(B)

一、選擇

1. (A) 十五歲的小明針對可能引發性衝動的原因，如何因應較為適當？(A)增加日常活動來消耗體力(B)透過色情媒體來緩解性衝動的感覺(C)透過和女朋友的親密行為，緩解性衝動的感覺(D)透過接觸刺激性的環境，緩解性衝動的感覺。
2. (C) 下列何者屬於戶外活動類的休閒活動？(A)桌球(B)打牌(C)釣魚(D)欣賞美食節目
3. (C) 下列何者是從事水域活動必備的器材？ (A)救生繩(B)呼吸管(C)救生衣(D)魚雷浮標。
4. (C) 未成年者要進行任何與懷孕相關的選擇或決定，都必須經過誰的同意？
(A)社工人員 (B)衛生福利部 (C)家長或法定代理人 (D)青少年親善門診醫師。
5. (C) 請問下列哪一種性病，無法使用抗生素來進行治療？ (A)淋病 (B)梅毒 (C)愛滋病 (D)非淋病性尿道炎
6. (A) 下列何種方法可同時達到避孕和預防性病的效果？(A)使用保險套(B)口服避孕藥(C)單一性伴侶(D)婚前健康檢查
7. (C) 哪一種游泳姿勢是臉部朝上？ (A)蝶式 (B)仰式 (C)蛙式 (D)捷泳
8. (C) 標準的高爾夫球場需有幾個球洞？ (A)8 (B)9 (C)18 (D)19
9. (B) 打撞球時，用以增加球桿頭與球的摩擦力，防止滑桿的用品為何？ (A)可可(B)巧克(C)石灰(D)滑石粉。
10. (D) 下列關於氣候變遷與全球環境問題的敘述，何者正確？ (A)日常交通運輸行為，與空氣汙染加劇關聯性低(B)降雨量改變，病媒增加，是少數地區環境問題，不影響臺灣 (C)使用焚化處理法來處理垃圾相當衛生安全，又可減少環境問題的產生 (D)人類活動是環境問題主因，甚至會破壞生態，造成環境汙染，影響健康
11. (C) 下列何者不屬於「一次性餐具」？ (A)免洗筷(B)紙餐盒 (C)環保杯(D)塑膠吸管
12. (D) 購買何種商品比較不需要考慮是否通過省水標章認證？ (A)馬桶 (B)水龍頭 (C)洗衣機 (D)飲水機
13. (D) 桌球正式比賽，每一場由幾局組成？(A)2局(B)4局(C)6局(D)奇數局。
14. (C) 下列哪一個行為不屬於健康的生活習慣？ (A)天天餐後潔牙 (B)天天吃足量蔬菜 (C)天天熬夜用功讀書 (D)天天喝足 2000 cc 白開水
15. (D) 慢性疲勞問題若沒有改善，可能會引發何種生理疾病？(A)肺癌(B)胃癌(C)大腸癌(D)心血管疾病。
16. (B) 在實現人生夢想的路上，哪一項資本最為重要？ (A)金錢 (B)健康 (C)腦力 (D)人際

關係。

17. (D) 桌球比賽時，若比分為 10：10 則須拿到幾分，這局才能分出勝負？ (A) 先得 11 分 (B) 先得 15 分 (C) 先得 21 分 (D) 領先 2 分。
18. (D) 排球何為正確攔網空中手部動作？ (A) 單手用力伸直 (B) 雙手微彎，手掌閉合 (C) 雙手晃動，隨意揮動 (D) 雙手用力伸直，手掌打開。
19. (D) 下列何者為女子體操比賽項目？ (A) 鞍馬 (B) 單槓 (C) 雙槓 (D) 高低槓。
20. (A) 下列何者皆屬於武術最常見的運動技能？ (甲) 移動 (乙) 重心 (丙) 推拉 (丁) 旋轉 (戊) 收勢。
(A) 甲乙丙丁 (B) 甲乙丁戊 (C) 甲丙丁戊 (D) 乙丙丁戊

二、是非

1. (X) 我是游泳高手，從事水域活動可以不穿救生衣。
2. (O) 進入青春期後，身體內性荷爾蒙變化，會逐步影響生理和心理的變化，甚至引發生理上的性衝動。
3. (O) 每個人對性衝動的感受程度各不相同，所以對每個人生活造成的影響也不一樣。
4. (O) 撞球檯共有 6 個球袋，設置於四個角和兩邊。
5. (X) 翹課去從事休閒活動是正當的理由。
6. (X) 觀賞高爾夫球賽時，可以邊走邊吃零食，以享受觀賞樂趣。
7. (O) 因青少年生殖器官尚未發育成熟，對細菌和病毒防護力較弱，因此發生不安全性行為，感染性病風險也較高。
8. (X) 母親若是一位愛滋病帶原者，則愛滋病毒會透過基因遺傳給胎兒，生出愛滋寶寶。
9. (O) 透過衛生掩埋方式處理垃圾，可能會汙染土壤和水質。
10. (O) 棒球執行打帶跑戰術，打者一定要打，跑者一定要跑。
11. (X) 籃球防守隊被裁判吹腳踢球違例，這應該被計一次進攻的失誤。
12. (X) 籃球防守的弱邊是指有球那一邊。
13. (X) 為了避免空汙影響，應優先配戴 N95 口罩，以有效阻隔空氣中有害物質。
14. (X) 排球攔網是阻止攻擊得分唯一的方式。
15. (O) 為了讓工作有精神而嚼檳榔，會破壞身體的健康資本。