

屏東縣立恆春國中 112 學年度第一學期七年級補考國文科 題庫

| | | | |
|-------------------------------|---|-----|-------|
| 命題教師： 洪秀娟 教師 命題範圍： 第七課~第十課 | 班級：_____年_____班 座號：_____ 姓名：_____ | 分數： | 家長簽名： |
|-------------------------------|---|-----|-------|

※ 作答說明：

1. 本試卷(含作答紙)共 2 張 3 頁，請同學檢查是否有誤。 代碼 01
2. 試卷中若印刷不清，請立即向監考老師反應，更換試卷。
3. 考試過程，嚴禁交談，請遵守考場規則。

一、單選題：(每題 2 分，共 50 分)

- () 1. 運用結構相似的語句，接連表現出同範圍、同性質的意念或形象，這種技巧稱為「排比」。下列哪些文句沒有運用「排比」技巧？ (A)在山中，早晨是不須人喊便會甦醒的——因為有陽光來喊，有飛鳥來喊，有樹蟬來喊 (B)一日之計在於晨，一年之計在於春，一生之計在於勤 (C)夏天的植物最為繁茂，到處是蔥蘢的樹木、繽紛的花朵、茂密的草叢 (D)浪費別人的時間，等於謀財害命；浪費自己的時間，等於慢性自殺。
- () 2. 漢語歇後語的結構，往往由兩個部分組成，前一部分是比喻或隱語，後一部分則是對前一部分作說明解釋。下列有關歇後語，敘述正確的選項是？ (A)「劉姥姥進大觀園」，比喻大開眼界 (B)「姜太公釣魚」，比喻心裡有數 (C)「八仙過海」，比喻自身難保 (D)「泥菩薩過江」，比喻各顯神通。
- () 3. 下列「 」中的讀音何者前後相同？ (A)圖書禮「券」／手不釋「卷」 (B)驚嘆「惋」惜／令人扼「腕」 (C)事有蹊「蹊」／心存「僥」倖 (D)「絡」繹不絕／貪污賄「賂」。
- () 4. 下列句子皆省略了主語(即主詞)，請問何者主語與其他三者不同？ (A)徐噴以煙，使之沖煙飛鳴 (B)神遊其中，怡然自得 (C)見二蟲鬥草間，觀之，興正濃 (D)舌一吐而二蟲盡為所吞。
- () 5. 「雨嘩嘩的越下越大」這句運用了狀聲詞來描摹雨聲，請問下列何者前後都是形容聲音的狀聲詞？ (A)「牙牙」學語／「呱呱」墜地 (B)流水「潺潺」／「涓涓」細流 (C)「鬱鬱」寡歡／「沾沾」自喜 (D)煙雨「濛濛」／風雨「淒淒」。
- () 6. 紙船一文中，作者提到「這種美麗的感情要到年事稍長後才能體會出來。」這段話的涵義，與下列何者最接近？ (A)誰言寸草心，報得三春暉 (B)父母恩重如山，百善孝為先 (C)當家才知柴米貴，養兒方知父母恩 (D)樹欲靜而風不止，子欲養而親不待。
- () 7. 小樹在國文課學了許多成語，他試著以成語造句，請問下列何句文意不通順？ (A)東漢末年戰火不斷，劍及履及，百姓飽受顛沛流離之苦 (B)選舉將近，許多抹黑造謠紛紛傳出，可見眾口鑠金，人言可畏 (C)舉辦各種大型活動都要注意人流與動線，曲突徙薪，避免踩踏事件發生。 (D)父親披星戴月地工作，只為給孩子們一個安穩的家。
- () 8. 下列「 」中寫成國字何者前後相同？ (A)百「出亡」／「裙」／存「出亡」 (B)暴「力一」之氣／風聲鶴「力一」 (C)「尸又」然開朗／「尸又」出性命 (D)亦步亦「口」／並駕齊「口」。
- () 9. 兒時記趣一文中運用許多「之」字用以代替所指稱的詞語，請問下列何者非屬此類代詞？ (A)項為「之」強 (B)故時有物外「之」趣 (C)使「之」沖煙飛鳴 (D)驅「之」別院。
- () 10. 兒時記趣一文中善用誇飾修辭來描摹景象，請問下列何者並未使用此種手法？ (A)見藐小微物，必細察其紋理，故時有物外之趣 (B)夏蚊成雷，私擬作群鶴舞空 (C)心之所向，則或千或百，果然

鶴也 (D)忽有龐然大物，拔山倒樹而來。

- ()11. 有關鬧元宵一文的敘述，何者正確？ (A)作者小時候對元宵節有莫名的抗拒，是因為家裡太窮都要自己製作燈籠，覺得很丟臉 (B)有些年齡較大的男孩，會上山砍竹子，製作成火把，是因為覺得用奶粉罐做的燈籠不夠帥氣 (C)作者相當讚許友人把湯圓當餃子吃時，認為這是有創意的新吃法 (D)一開始喜歡龍來家裡拜年，後來索性先關燈閃人，是因為舞龍舞獅太吵。
- ()12. 鬧元宵一文以「鬧」字為文眼，有戲耍、喧鬧及玩鬧的多重意義，文中寫出人們慶祝元宵節的各種活動，包括製作燈籠、品嚐元宵、看舞龍拜年等，下列何者無法展現出「鬧」字的氛圍？ (A)上山砍竹子，截成一段一段當火把，裡頭填塞浸過廚房剩油的碎布頭，一點起火來菜香四溢 (B)三個人就組成一個隊伍來討紅包，伸頭一看，這是龍嗎？毛毛蟲差不多吧 (C)在鞭炮的煙硝裡，那龍活脫脫的就要騰雲駕霧沖天而去了 (D)這些曾穿梭在街頭巷尾的活龍，全要集合在廟前火化了。
- ()13. 「最是黃梅時節近，雨餘歸路有蛙鳴」請問這段文字描述的季节，與下列何者相同？ (A)春城無處不飛花，寒食東風御柳斜 (B)白雪卻嫌春色晚，故穿庭樹作飛花 (C)接天蓮葉無窮碧，映日荷花別樣紅 (D)天階夜色涼如水，臥看牽牛織女星。
- ()14. 下列選項何者用字完全正確？ (A)母親粗糙不勸的雙手以及臉上深鑿的皺紋，都是為了兒女與家庭付出的痕跡 (B)孩子稚氣未脫的笑顏，是父母奔波忙碌、辛勤工作的動力 (C)景氣低迷，政府發行五倍卷，希望能刺激民眾消費 (D)近日流感來勢兇兇，政府不斷呼籲眾人出門要帶口罩。
- ()15. 兒時記趣一文中運用了實景與虛景的描摹展現作者的敏銳的觀察力與豐富的想像力，請問下列何者並非作者想像世界中的景物？ (A)舞於空中的白鶴 (B)高低起伏的山谷 (C)奔馳兇猛的野獸 (D)吞食二蟲的癩蝦蟆。
- ()16. 「那些有趣的好時光啊，我要用兩珠的鍊子把它串起來，繞在手腕上。」琦君寫這段話表達的心情是？ (A)期許能從回憶中得到安慰 (B)期待能把回憶展示給眾人 (C)希望能將回憶永遠珍藏 (D)盼望能擺脫回憶的束縛。
- ()17. 下列語句皆出自紙船印象，何者屬於靜態描寫？ (A)我曾經有過許多紙船，在童年的無三尺浪的簷下水道航行 (B)花色斑雜者，形態怪異者，氣派儼然者 (C)屋頂上的雨水滴落下來，卻理直氣壯的在簷下匯成一道水流 (D)各色各樣的紙船或列隊而出，或千里單騎，或比肩齊步，或互相追逐。
- ()18. 「杭州的桂花再香，還是比不得家鄉舊宅院子裡的金桂。」這句話所表現出來的愁思，與下列何者相同？ (A)青青河畔草，綿綿思遠道，遠道不可思，宿昔夢見之。 (B)戍鼓斷人行，邊秋一雁聲。露從今夜白，月是故鄉明。 (C)山外青山樓外樓，西湖歌舞幾時休？暖風吹得遊人醉，直把杭州作汴州。 (D)揚子江頭楊柳春，楊花愁殺渡江人。數聲風笛離亭晚，君向瀟湘我向秦。
- ()19. 「余之小帽領襪，皆芸自做。衣之破者移東補西，必整必潔，色取闇淡，以免垢跡，既可出客，又可家常。」根據本段文字判斷，下列敘述何者正確？ (A)陳芸將作者的家居服與外出服分類擺放，便於拿取 (B)作者雖不富裕，外出時仍穿著顏色鮮明的淺色衣服 (C)衣襪選擇最便宜的購買，帽子則是陳芸親手製作 (D)衣服若破了就用其他部份縫補，不會直接丟棄。
- ()20. 「水光瀲灩晴方好，山色空濛雨亦奇。欲把西湖比西子，淡妝濃抹總相宜。」(蘇軾飲湖上初晴後雨)詩句中「淡妝濃抹」，是指「西湖」的什麼？ (A)晴雨的不同景致 (B)遊人的各種妝扮 (C)百花齊放的爭艷 (D)玄奇的湖光山色。
- ()21. 下列成語皆與「雨」有關，請問何者運用正確？ (A)近幾年經濟起飛，這一帶的高樓大廈一座座拔地而起，簡直是滿城風雨 (B)每逢夏季，這個地區總是未雨綢繆，甚至整個月都沒有降雨，導致缺水危機 (C)我特別感謝師長春風化雨的悉心指導，使我能夠順利完成學業 (D)夏季的降水量總是

不足，我們要櫛風沐雨，以備不時之需。

- ()22. 有一次，美國總統華盛頓邀請議員們參加一場宴會。有位議員遲到了，趕來時發現所有的人都已經在用餐了，便有些惱怒，華盛頓對他說：「我的廚師從來不問客人到齊了沒有，只問時間到了沒有。」(網路文章)有關本文的主旨，下列說明何者最為貼切？ (A)強調守時的重要性 (B)認為職業不分貴賤 (C)認為華盛頓不知變通，不近人情 (D)說明不應該把過錯推到他人的身上。
- ()23. 「我們在水道上放紙船遊戲，花色斑雜者，形態怪異者，氣派儼然者，甫經下水即遭沉默者，各色各樣的紙船或列隊而出，或千里單騎，或比肩齊步，或互相追逐，……形形色色，蔚為壯觀。我們所得到的，是真正的快樂。」以上這段話的寫作分析何者說明**錯誤**？ (A)依序描述靜態的紙船、動態的航行、遊戲的樂趣 (B)各式各樣的紙船，呼應母親平心靜氣的巧思與巧手 (C)藉由紙船航行的千變萬化，說明作者童年有很多玩伴 (D)善用排比與擬人手法，讓讀者跟著作者走入歡樂童年。
- ()24. 兒時記趣一文中作者將蚊子當作青雲白鶴來觀賞，又將土石小草看作土丘山谷而神遊其中，其所啟發的道理與何者**不同**？ (A)化平凡為神奇 (B)世界並不缺少美，而是缺少發現 (C)萬物靜觀皆自得，四時佳興與人同 (D)一枝草，一點露。
- ()25. 根據右圖，下列敘述何者正確？ (A)沈復張目對日，超過十五分鐘就會導致黃斑部病變 (B)眼睛受傷，與光源的強度、距離以及暴露時間有關 (C)導致黃斑部病變的藍光，主要來源是3C產品 (D)智慧型手機的螢幕導致黃斑部病變的可能性最高。

提到藍光就想到3C產品
但最大來源其實是日光

藍光最大的來源
其實是來自太陽光！

光學專家認為：
直視正午太陽15分鐘這種程度的暴露，
才可能直接導致黃斑部病變。

因此可知手機螢幕
直接導致黃斑部病
變的可能性不高。

但仍應了解：
眼睛受傷害程度與 **強度** **距離** **暴露時間** 都有關係！

| | | | | | | | | | |
|----|----|----|----|----|----|----|----|----|----|
| 1 | 2 | 3 | 4 | 5 | 6 | 7 | 8 | 9 | 10 |
| D | A | B | D | A | C | A | C | B | A |
| 11 | 12 | 13 | 14 | 15 | 16 | 17 | 18 | 19 | 20 |
| B | D | C | B | D | C | B | B | D | A |
| 21 | 22 | 23 | 24 | 25 | | | | | |
| C | A | C | D | B | | | | | |

屏東縣立恆春國民中學 112 學年度第一學期七年級英語補考-題庫卷

| | | | |
|-----------------------------|---------------------------------|----------------------------|--|
| 範圍:康軒版 第一冊(全) 命題教師:吳秋君老師 | 七年 班 座號: _____ 姓名: _____ | 從 50 題中選出 40 題考 滿分 40 分 | |
|-----------------------------|---------------------------------|----------------------------|--|

一、單字選擇題：

1. (B) warm (A)毛毛蟲 (B)溫暖的
2. (A) farmer (A)農夫 (B)家庭
3. (A) young (A)年輕的 (B)黃色的
4. (A) parent (A)雙親之一 (B)寵物
5. (A) kitchen (A)廚房 (B)親切的
6. (B) daughter (A)醫生 (B)女兒
7. (A) smart (A)聰明 (B)蛇
8. (B) elephant (A)山羊 (B)大象
9. (B) rabbit (A)機器人 (B)兔子
10. (A) movie (A)電影 (B)移動
11. (A) sign (A)符號 (B)尺寸
12. (B) dead (A)親愛的 (B)死的
13. (B) castle (A)洞穴 (B)城堡
14. (B) cellphone (A)大象 (B)手機
15. (A) living room (A)客廳 (B)飯廳
16. (A) world (A)世界 (B)工作
17. (B) in front of (A)來自.... (B)在...前面
18. (A) house (A)房子 (B)馬
19. (A) library (A)圖書館 (B)靠在...
20. (B) gym (A)大門 (B)體育館
21. (A) favorite (A)最喜歡的 (B)特別的
22. (A) fun (A)樂趣 (B)狐狸
23. (B) basketball (A)棒球 (B)籃球
24. (A) test (A)考試 (B)休息
25. (B) talk (A)走路 (B)講話
26. (A) late (A)遲到的 (B)規定
27. (A) museum (A)博物館 (B)山
28. (B) station (A)站著 (B)車站
29. (A) quiet (A)安靜的 (B)女王
30. (B) noisy (A)護理師 (B)吵鬧的
31. (A) careful (A)小心的 (B)關閉中的

32. (B) hungry (A)丈夫 (B)飢餓的
33. (B) look for (A)注視 (B)尋找
34. (A) Monday (A)星期一 (B)星期日
35. (B) Friday (A)星期六 (B)星期五
36. (A) dinner (A)晚餐 (B)在....後面

二、文法選擇：

37. (B) It is ____ elephant. (A)a (B)an
38. (B) My students ____ young. (A)is (B)are
39. (B) What's ____ name? (A)you (B)your
40. (A) ____ are the toy cars? (A)Where (B)There
41. (B) There ____ two apples on the table.
(A) is (B)are
42. (A) Please ____ quiet. (A)be (B)do
43. (A) ____ play in class. (A)Don't (B)Not
44. (B) Let's ____ run. (A)don't (B)not
45. (B) I ____ TV now. (A)watching (B)am watching
46. (A) ____ is it? It is 8 o'clock.
(A)What time (B)What day
47. (B) ____ is it? It is Saturday.
(A)What time (B)What day
48. (A) My birthday party is ____ Tuesday. (A)on (B)in
49. (A) ____ the girls singing in the classroom?
(A)Are (B)What
50. (A) You loves _____. (A)her (B)she

屏東縣立恆春國中 112 學年度第一學期補考七年級本土語科 題庫

| | | | |
|---------------------------|---|-----|-------|
| 命題教師：陳思穎教師 命題範圍：第一冊（全） | 班級：_____年_____班 座號：_____ 姓名：_____ | 分數： | 家長簽名： |
|---------------------------|---|-----|-------|

※ 作答說明：

1. 本試卷（含作答紙）共 1 張 1 頁，請同學檢查是否有誤。
2. 試卷中若印刷不清，請立即向監考老師反應，更換試卷。
3. 考試過程，嚴禁交談，請遵守考場規則。

一、單選題：（每題 2 分，共 10 分）

- () 1. 我無細膩共你 ê 碗公摔破，趕緊來_____。
- (A) 滾耍笑 (B) 會失禮 (C) 看鬧熱 (C) 弄破碗。
- () 2. 誠_____，我無細膩煞共恁借我的冊拍無見。
- (A) 歹運 (B) 歹勢 (C) 歹心 (C) 歹款。
- () 3. 愛注意！拄才落雨，塗跤閣澹漉漉，著愛_____行較袂跋倒。
- (A) 沓沓仔 (B) 唵唵掣 (C) 霧嘎嘎 (D) 頭昏昏。
- () 4. 阿兄共鹽看做白糖，就按呢摻入去咖啡，有影是「_____花花，匏仔看做菜瓜」。
- (A) 頭殼 (B) 耳空 (C) 喙舌 (D) 目睷。
- () 5. 我請假足濟工攏無來學校，老師你閣講遐緊，我實在是_____，聽攏無。
- (A) 鴨仔聽雷 (B) 三講四無著 (C) 食果子拜樹頭 (D) 互相落氣球進步。

答案：1. B 2. B 3. A 4. D 5. A

屏東縣立恆春國中 112 學年度第一學期補考七年級數學科 題庫

| | | | |
|------------|-----------------|-----|-------|
| 命題老師:陳美如老師 | 班級:七年____班 | 分數: | 家長簽名: |
| 命題範圍:第一冊 | 座號:____姓名:_____ | | |

- (C) 以全班的數學平均成績 70 分為基準，心平這次數學考 85 分，記為 +15 分，而書愷這次數學考 60 分，該如何表示？
(A) -60 分 (B) 60 分 (C) -10 分 (D) 10 分
- (A) 已知 $2 \times 3 \times 4 \times 5 = 120$ ，則 $2 \times (-3) \times (-4) \times (-5) = ?$
(A) -120 (B) 120 (C) 50 (D) -50
- (B) 以指數記法簡記 $(-7) \times (-7) \times (-7) \times (-7) \times (-7)$ ？
(A) -7×5 (B) $(-7)^5$ (C) $-7 + 5$ (D) 7^5
- (B) 下列何者是以科學記號表示法記錄的數？
(A) 0.9×10^5 (B) 2.75×10^{-9} (C) 16×10^{-23} (D) 13.5×10^2
- (D) 下列四個式子的運算結果，哪一個正確？
甲： $-3 + 3 = 6$ 乙： $(-2) + (-8) = 10$ 丙： $-9 - (-3) = -12$ 丁： $-3 - 4 = -7$
(A) 甲 (B) 乙 (C) 丙 (D) 丁
- (B) 將 7.2×10^{-5} 化成小數形式，則從小數點後第幾位開始出現不為 0 的數字？
(A) 4 (B) 5 (C) 6 (D) 7
- (A) 數線上 $A(a)$ 、 $B(b)$ 兩點， B 點在 A 點的右邊，且原點 O 在 A 、 B 兩點之間，則 a 、 b 、 0 的大小關係為何？
(A) $a < 0 < b$ (B) $b < 0 < a$ (C) $0 < b < a$ (D) $0 < a < b$
- (C) 計算 $(-12.6) \times 128 + (-12.6) \times 72 = ?$
(A) -2420 (B) -2500 (C) -2520 (D) -2600
- (D) 求 $2^3 \times 3^2 \times 5$ 與 $2^2 \times 3 \times 5^2 \times 7$ 的最大公因數？
(A) $2^3 \times 3 \times 5 \times 7$ (B) $2 \times 3^2 \times 5$ (C) $2^3 \times 3 \times 5$ (D) $2^2 \times 3 \times 5$
- (A) $(-8)^6 \times (-8)^8 \div (-8)^5 = (-8)^\square$ ，則 $\square = ?$
(A) 9 (B) 8 (C) 7 (D) 6
- (A) 已知 $2345\square$ 是一個五位數且也是 11 的倍數，則 \square 可能為何？
(A) 2 (B) 3 (C) 4 (D) 5
- (D) 求 $2^2 \times 3^3 \times 7$ 與 $2^4 \times 5 \times 7^2$ 的最小公倍數？
(A) $2^2 \times 7$ (B) $2^4 \times 7^2$ (C) $2^2 \times 3^3 \times 5 \times 7$ (D) $2^4 \times 3^3 \times 5 \times 7^2$
- (A) 計算 $4^{10} \div (4^3)^3 = ?$
(A) 4 (B) 16 (C) 64 (D) 256

14. (C) $-\frac{1}{5}$ 的倒數是多少？

- (A) $\frac{1}{5}$ (B) $-\frac{1}{5}$ (C) -5 (D) 5

15. (B) 下列各敘述中，何者正確？

- (A) 12 是質數 (B) 23 是質數 (C) 6 是 36 的質因數 (D) 1 是 72 的質因數

16. (B) $[(-4)^3]^2 \times (-4)^5 = (-4)^\square$ ，則 $\square = ?$

- (A) 10 (B) 11 (C) 25 (D) 30

17. (D) 媽媽買了 3 個披薩及 2 瓶汽水，如果一個披薩 x 元，一瓶汽水 60 元，則媽媽共花了多少元？

- (A) $(2x+180)$ 元 (B) $(2x+120)$ 元 (C) $(3x+180)$ 元 (D) $(3x+120)$ 元

18. (C) 下列哪一個方程式的解與 $0.2x+3=0.3x-0.5$ 的解相同？

- (A) $2x+3=3x-0.5$ (B) $2x+3=3x-5$ (C) $2x+30=3x-5$ (D) $2x+30=3x-50$

19. (D) 判別 $x = -\frac{1}{3}$ 是下列哪一個方程式的解？

- (A) $5x+3=2x-2$ (B) $-2x+5=x+4$ (C) $-x+2=-2x+3$ (D) $4x+3=x+2$

20. (B) 比較 $A=3.1 \times 10^6$ 、 $B=7.4 \times 10^5$ 、 $C=8.2 \times 10^4$ 的大小，下列何者正確？

- (A) $A < B < C$ (B) $A > B > C$ (C) $A > C > B$ (D) $B < A < C$

21. (C) 下列敘述何者正確？

- (A) $2+x$ 可簡記為 $2x$ (B) $3x-2x$ 化簡後的結果為 1 (C) $-x$ 表示 $(-1) \times x$
(D) $-2(x+1)$ 可以化簡成 $-2x+1$

22. (D) 下列選項中，何者是方程式 $32-x \div 4=8$ 的解法？

- (A) $x=8 \times 4+32$ (B) $x=(32+8) \times 4$ (C) $x=8 \times (32-4)$ (D) $x=(32-8) \times 4$

23. (B) 下列各式何者正確？

- (A) $3\frac{1}{2} \times (-\frac{2}{3}) = 3 + \frac{1}{2} \times (-\frac{2}{3})$ (B) $3\frac{1}{2} \times (-\frac{2}{3}) = (3 + \frac{1}{2}) \times (-\frac{2}{3})$
(C) $5 \div 1 \frac{2}{15} \times \frac{2}{15} = 5 \times 1 \frac{15}{2} \times \frac{2}{15}$ (D) $5 \div 1 \frac{2}{15} \times \frac{2}{15} = 5 \times \frac{15}{17} \times \frac{15}{2}$

24. (D) 下列何者不是一元一次方程式？

- (A) $24=x+1$ (B) $-x+18=x$ (C) $5x=6$ (D) $24-x$

25. (C) 將 $\frac{3x-5}{3} - \frac{2x-3}{4}$ 化簡後，可得到下列哪一個式子？

- (A) $6x-11$ (B) $18x-29$ (C) $\frac{6x-11}{12}$ (D) $\frac{18x-29}{12}$

一、選擇:

1. ()下列何者可以表現出生長、繁殖、感應、代謝等現象? (A)萌芽的種子 (B)烤雞腿 (C)鑽石 (D)木炭。

《答案》A

詳解: 種子具有生命, 在生長過程中能表現出生命現象。


2. ()使用高倍率物鏡觀察玻片標本時, 如果視野內的亮度適當, 卻仍然看不清楚目標物, 應該調整哪一項構造使目標物的影像較清晰? (A)反光鏡 (B)光圈 (C)粗調節輪 (D)細調節輪。

《答案》D

3. ()使用複式顯微鏡時, 若目標物向右上方向離視野, 應該將載玻片移向何方? (A)右上方 (B)右下方 (C)左上方 (D)左下方。

《答案》A

4. ()小明將螞蟻標本置於解剖顯微鏡下觀察, 得到如附圖的影像。若他想將螞蟻移至視野中央, 他應該將螞蟻朝向何處移動? (A)右上方 (B)右下方 (C)左上方 (D)左下方。



《答案》C

5. ()具有下列何種特性的標本較適合使用解剖顯微鏡來觀察? (A)單層表皮細胞 (B)透光的組織薄片 (C)立體的生物標本 (D)水中小生物。

《答案》C

6. ()使用解剖顯微鏡時, 若想要讓兩眼所觀察的視野一致, 應該調整解剖顯微鏡上的哪一項構造? (A)眼距調整器 (B)倍率調整輪 (C)調節輪 (D)光源開關。

《答案》A

7. ()有關顯微鏡使用方法的敘述, 下列何者正確? (A)拿取顯微鏡時, 僅需以單手緊握住鏡臂即可 (B)觀察樣本時可閉上一眼, 僅以單眼觀察即可 (C)使用低倍率鏡時, 可轉動調節輪以調整焦距 (D)若光線不足時, 可轉換至高倍率鏡以提高亮度。

《答案》C

8. ()有關不同細胞與其形狀之配對, 下列何者正確?



(A)神經細胞: 甲 (B)肌肉細胞: 乙
(C)血球細胞: 丙 (D)口腔皮膜細胞: 丁。

《答案》C

9. ()請將下列物質由大至小排序: 甲.碳、乙.澱粉、丙.葡萄糖
(A)甲乙丙 (B)甲丙乙 (C)丙甲乙 (D)乙丙甲。

《答案》D

詳解: 碳為原子, 葡萄糖為分子, 而澱粉則為許多葡萄糖相連形成較大型的分子。

10. ()下列何種分子可以藉由擴散作用直接進出細胞?
(A)水 (B)氧氣 (C)二氧化碳 (D)以上皆是。

《答案》D

11. ()將紅血球放在哪一種溶液中, 可看到雙凹圓盤狀的外形特徵?
(A)飽和食鹽水 (B)生理食鹽水 (C)清水 (D)以上皆可。

《答案》B

詳解: 生理食鹽水為紅血球的等張溶液, 與紅血球的細胞質濃度(滲透壓)相近, 故可維持紅血球的形狀。

12. ()人類的小腸是屬於下列哪一種組成層次?
(A)細胞 (B)組織 (C)器官 (D)器官系統。

《答案》C

詳解: 小腸為人體消化器官之一, 由表皮、肌肉、結締等組織所組成, 為消化系統的一部分。

13. ()下列何者僅由一個細胞便能完成所有的生命現象?
(A)非生物 (B)任何生物 (C)多細胞生物 (D)單細胞生物。

《答案》D

14. ()附表為某冰淇淋的營養標示, 則此冰淇淋每 100 公克可產生多少大卡的能量?

| 營養標示 (每100公克) | |
|---------------|--------------------|
| 蛋白質... | 5 公克 脂質..... 25 公克 |
| 醣類..... | 30 公克 鈉..... 50 毫克 |

(A)240 (B)365 (C)440 (D)565。

《答案》B

詳解: 1 公克的蛋白質、脂質和醣類分別可產生 4 大卡、9 大卡和 4 大卡的能量, 所以此食物 100 公克中可產生 $5 \times 4 + 25 \times 9 + 30 \times 4 = 365$ 大卡。

15. ()下列有關礦物質和維生素的敘述, 何者正確?
(A)可提供人體所需能量 (B)每天攝取的量需很多, 才能維持正常生理作用 (C)鈣和人體的造血功能有關 (D)缺乏維生素 A 會得夜盲症。

《答案》D

16. ()利用本氏液進行檢測食物是否有葡萄糖的反應時, 下列哪一個試管的呈色含有的葡萄糖濃度最高?

(A)紅色 (B)橘色 (C)綠色 (D)藍色。

《答案》A

17. ()有兩包未標示名稱的白色粉末, 已知分別為葡

葡萄糖與麵粉。下列哪項實驗最適合用來區分兩者？
 (A)取適量粉末配成水溶液，分別直接加入少量本氏液，觀察是否變藍色
 (B)取適量粉末配成水溶液，分別直接加入少量本氏液，觀察是否變紅色
 (C)取適量粉末置於試管，分別加入少量碘液，觀察是否變紅色
 (D)取適量粉末置於試管，分別加入少量碘液，觀察是否變藍黑色。

《答案》D

18. ()乳牛吃草後在體內產生牛奶，其生理作用過程為何？ (A)僅有分解作用 (B)僅有合成作用 (C)先進行分解作用，再進行合成作用 (D)先進行合成作用，再進行分解作用。

《答案》C

19. ()人體分泌的唾液中含有澱粉酶，但卻無法加速纖維素的分解利用，理由為何？ (A)酵素的成分是蛋白質 (B)酵素的活性易受環境的溫度影響 (C)酵素的活性和環境的酸鹼性有關 (D)酵素和作用對象間有專一性。

《答案》D

20. ()下列有關向日葵的敘述何者正確？ (A)莖內維管束成散生排列 (B)莖內維管束韌皮部靠內側 (C)葉內維管束木質部靠近上表皮側 (D)不具形成層。

《答案》C

21. ()關於植物輸導組織的敘述，下列何者正確？ (A)木質部運送養分 (B)韌皮部運送水分 (C)根向上運送水分 (D)養分均由上而下運送。

《答案》C

詳解：(A)木質部運送水分，(B)韌皮部運送養分，(D)養分可由下而上或由上而下運送。

22. ()榕樹的莖具有形成層，可以不斷增生新的木質部和韌皮部，使莖加粗，因此莖內含有：甲.新的木質部；乙.老的木質部；丙.新的韌皮部；丁.老的韌皮部。以上構造由外而內排列順序為何？ (A)甲→乙→丙→丁 (B)乙→甲→丙→丁 (C)丙→丁→甲→乙 (D)丁→丙→甲→乙。

《答案》D

詳解：維管束中，形成層向外增生韌皮部，向內增生木質部。

23. ()木棉在秋冬時葉片落盡，請問這個時候木棉的養分從何處而來？ (A)莖表皮細胞的光合作用 (B)根、莖在夏天儲存的養分 (C)根部吸收土壤中的養分 (D)植物本身的呼吸作用。

《答案》B

24. ()關於植物蒸散作用的敘述，下列何者不正確？ (A)韌皮部負責蒸散作用的進行 (B)摘除植物葉片會減緩蒸散作用 (C)蒸散作用有助於根部對水分的吸收 (D)蒸散作用時，水分移動的方向是由下往上運輸。

《答案》A

詳解：植物進行蒸散作用時，木質部內的水分由下往上運送。

25. ()人體的心血管系統，不包含下列何者？ (A)心臟 (B)血管 (C)血液 (D)淋巴管。

《答案》D

詳解：(D)淋巴管屬於淋巴系統。

26. ()下列有關動脈、靜脈和微血管的比較，何者正確？ (A)靜脈內的血液流速最慢 (B)動脈血的氧濃度皆較大 (C)微血管可收縮產生脈搏 (D)動脈血皆流離心臟，靜脈血皆流向心臟。

《答案》D

詳解：(A)微血管內血液流動最慢；(B)肺動脈氧濃度低於肺靜脈；(C)動脈隨心臟收縮而產生脈搏。

27. ()供應手臂氧氣養分的血液，是由下列哪一個心臟腔室所擠壓出來的？ (A)左心房 (B)右心房 (C)左心室 (D)右心室。

《答案》C

28. ()下列有關肺循環與體循環的敘述，何者錯誤？ (A)肺循環主要是心臟與肺部間的血液循環 (B)肺循環與體循環是同時進行的 (C)兩循環系統在心臟交會 (D)血液循環的動力來自於動脈的搏動。

《答案》D

詳解：血液循環的動力是心臟的收縮與舒張。

29. ()有關淋巴系統的敘述，下列何者錯誤？ (A)淋巴管中具有瓣膜 (B)血液自微血管流入淋巴管形成淋巴 (C)淋巴結可過濾病原體 (D)淋巴系統可維持血液組成的恆定。

《答案》B

詳解：血漿的部分物質由微血管滲到組織細胞間，形成組織液，當組織液滲入淋巴管後，便稱為淋巴。

30. ()有關人體心血管和淋巴系統的敘述，下列何者正確？ (A)淋巴管中有紅血球可產生抗體 (B)淋巴最後會注入動脈中 (C)心血管系統主要功能是運輸物質 (D)血管和淋巴管都有瓣膜。

《答案》C

詳解：(A)特殊的白血球才可產生抗體；(B)淋巴最後會注入靜脈中；(D)動脈和微血管中沒有瓣膜。

31. ()分別測量小軒在運動前和運動後，每分鐘的心搏與脈搏次數，結果如附表，請比較下列各數值的大小？

| 運動前 | | 運動後 | |
|-----|----|-----|----|
| 心搏 | 脈搏 | 心搏 | 脈搏 |
| W | X | Y | Z |

(A)W=Y (B)Y<X (C)W<Z (D)Y>Z。

《答案》C

32. ()下列何者屬於人體的專一性防禦作用？ (A)消化液的殺菌作用 (B)皮膚的阻隔作用 (C)發炎反應 (D)白血球產生抗體。

《答案》D

33. ()走路時不小心踢到石頭，不經思考而立刻將腳縮回，試問這樣的反應不需要經過下列哪一個部位？ (A)感覺神經元 (B)運動神經元 (C)大腦 (D)脊髓。

《答案》C

34. ()有關意識作用與反射作用的比較，下列何者正確？

| 比較 | 作用 | 意識行為 | 反射作用 |
|-----------|----|------|------|
| (A)反應中樞 | | 腦幹 | 脊髓 |
| (B)反應時間 | | 慢 | 快 |
| (C)是否經過動器 | | 否 | 是 |
| (D)舉例 | | 流口水 | 眨眼 |

《答案》B

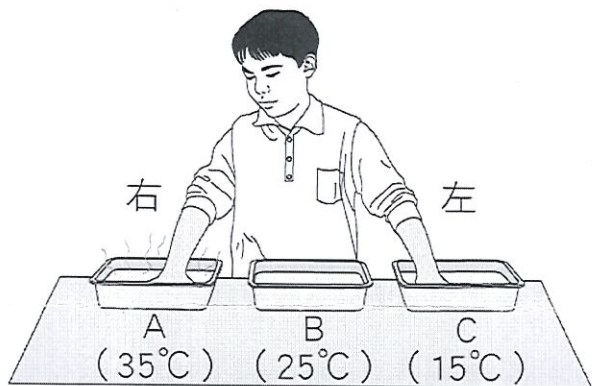
35. ()在接尺實驗中，受試者接受環境刺激的受器主要分布於何處？ (A)手部皮膚 (B)手部肌肉 (C)眼 (D)耳。

《答案》C

36. ()在接尺實驗中，受試者體內的神經傳導途徑為何？ (A)受器→感覺神經元→大腦→運動神經元→動器 (B)受器→感覺神經元→脊髓→運動神經元→動器 (C)受器→感覺神經元→大腦→脊髓→運動神經元→動器 (D)受器→感覺神經元→脊髓→大腦→運動神經元→動器。

《答案》C

37. ()小明將兩手放置於如附圖的水盆中，三分鐘後移入中間的水盆，請問兩手的感覺分別為何？ (A)左手感覺熱、右手感覺冷 (B)右手感覺熱、左手感覺冷 (C)左、右手均感覺熱 (D)左、右手均感覺冷。



《答案》A

38. ()下列何者不是因為「視覺暫留」所造成的現象？ (A)煙火在空中呈現出絢麗的圖案 (B)卡通影片中的卡通人物表現出可愛的動作 (C)綿綿春雨如細絲般地降落地面 (D)滴入水中的墨汁逐漸均勻散布至整杯水中。

《答案》D

39. ()下列有關神經系統和內分泌系統的比較，哪一個錯誤？

| 區別 | 神經系統 | 內分泌系統 |
|-----------|--------|-------|
| (A)訊息傳遞方式 | 由神經元傳遞 | 由血液傳遞 |
| (B)作用速率 | 迅速 | 緩慢 |
| (C)作用時效 | 短暫 | 持久 |
| (D)作用範圍 | 廣泛 | 局部 |

《答案》D

詳解：神經訊息只在神經元末梢分布的區域作用，而內分泌系統可由血液送至全身細胞，故作用範圍較廣。

40. ()小玉於野外看到一隻青竹絲，嚇得拔腿就跑，試問此時他體內的激素將發生何種變化？ (A)胰島素增加 (B)升糖素減少 (C)腎上腺素增加 (D)甲狀腺素減少。

《答案》C

41. ()各種疾病與其病因之配對，下列何者正確？

(A)甲狀腺亢進：甲狀腺素分泌過少 (B)巨人症：生長激素分泌過多 (C)糖尿病：升糖素分泌過多 (D)植物人：腦幹受損。

《答案》B

42. ()許多動物對於環境的刺激，會產生趨向或背離的反應，試問這是什麼現象的表現？ (A)趨性 (B)向性 (C)反射 (D)觸發運動。

《答案》A

43. ()下列何者不屬於植物的向性？

甲.綠豆的莖彎向有光的方向
乙.葡萄的卷鬚攀附支柱向上生長
丙.含羞草的葉經碰觸後閉合
丁.酢漿草的葉到了晚上會下垂。

(A)甲、乙 (B)甲、丁 (C)乙、丙 (D)丙、丁。

《答案》D

44. ()附表為植物向性和觸發運動的比較，何項正確？

| 比較項目 | 種類 | 向光性 | 觸發運動 |
|------------|----|--------|------|
| (A)刺激種類 | | 光照 | 地心引力 |
| (B)反應速率 | | 較快 | 較慢 |
| (C)對植物的影響 | | 朝向光源生長 | 葉片閉合 |
| (D)是否可恢復原狀 | | 不可 | 不可 |

《答案》C

45. ()下列何者為小軒所表現出的生物恆定？ (A)體育課打完籃球，都會喝掉一整罐冰冷的可樂 (B)每到生物課，都會興趣盎然、特別專心 (C)到第四節課時，肚子總是咕嚕、咕嚕地叫 (D)放學時，都會走同一條路回家。

《答案》C

詳解：其他行為是小軒的習慣，而不是維持生理作用的恆定性。

46. ()下列哪些系統和人體恆定性的維持有關？ 甲.神經系統；乙.內分泌系統；丙.消化系統；丁.呼吸系統；戊.泌尿系統。
(A)甲 (B)甲乙 (C)丙丁戊 (D)甲乙丙丁戊。

《答案》D

詳解：人體的神經和內分泌系統可協調全身各個器官系統，共同維持身體的恆定性。

47. ()人體在運動後休息一段時間，運動後到休息後的呼吸和脈搏次數有何變化？ (A)二者皆加快 (B)呼吸次數加快，脈搏次數減慢 (C)呼吸次數減慢，脈搏次數加快 (D)二者皆減慢。

《答案》D

詳解：人體在運動後，呼吸和脈搏次數都會加快；休息一段時間後，則會因恆定而兩者皆減慢。

48. ()人體在劇烈運動後，呼吸、脈搏次數和血壓的變化，對於維持人體生理作用的恆定性有何意義？ (A)加速氧氣的提供和二氧化碳的排出 (B)加速氧氣的提供，減慢二氧化碳的排出 (C)減慢氧氣的提供，加速二氧化碳的排出 (D)減慢氧氣的提供和二氧化碳的排出。

《答案》A

詳解：人體在劇烈運動時，細胞的代謝作用加快，需要更多的氧氣並排除產生的二氧化碳。

詳解：植物的維管束與運輸水分及養分有關，與防止水分散失無關。

49. ()下列哪一類動物的體內均有調節體溫的控制系統，可以保持體溫恆定？ (A)魚類 (B)兩生類 (C)爬蟲類 (D)哺乳類。

《答案》D

50. ()呼吸作用的最重要的生理功能為何？ (A)使生物體獲得氧氣 (B)使生物體能排出二氧化碳 (C)提供生物體所需能量 (D)提供生物體所需養分。

《答案》C

51. ()下列有關人體肺的敘述，何者不正確？ (A)位於胸腔內 (B)由肺泡所組成 (C)表面布滿微血管 (D)肌肉可改變體積做呼吸運動。

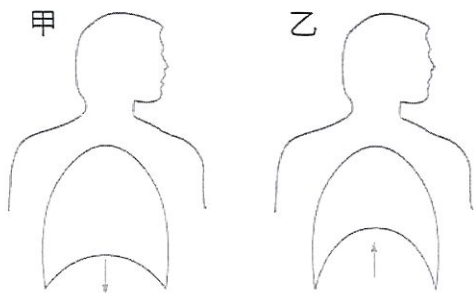
《答案》D

52. ()人體在運動後呼吸速率會加快，是血液中的什麼因素使呼吸運動加快？ (A)所減少的氧氣 (B)所增加的二氧化碳 (C)所減少的水分 (D)所增加的熱量。

《答案》B

詳解：運動後，因血液中二氧化碳濃度增加，刺激腦幹而使呼吸運動的速率加快。

53. ()附圖是人體吸氣和呼氣時，胸腔體積的變化情形，其中吸氣和呼氣各為何圖？ (A)甲、乙都是吸氣 (B)甲、乙都是呼氣 (C)甲為吸氣、乙為呼氣 (D)甲為呼氣、乙為吸氣。



《答案》C

詳解：甲圖中橫膈下降造成胸腔體積變大，引起吸氣；乙圖的橫膈上升造成胸腔體積變小，引起呼氣。

54. ()小藍利用已萌芽的綠豆進行實驗，裝置如附圖。30分鐘後由漏斗倒入一杯清水，同時觀察澄清石灰水的變化。下列何者是實驗中倒入清水的目的？ (A)清洗錐形瓶 (B)將瓶內的氣體擠入試管中 (C)促使綠豆生長並快速產生氧氣 (D)促使綠豆生長並快速產生二氧化碳。



《答案》B

55. ()下列何種構造和生物體防止水分的散失無關？ (A)杜鵑葉表面的角質層 (B)桑樹莖中的維管束 (C)蛇的鱗片 (D)鍬形蟲的外骨骼。

《答案》B

屏東縣立恆春國中 112 學年度第 1 學期 7 年級社會科補考題庫

| | | | | | |
|---|----------------------------|--|-----|-------|--|
| 命題教師： 地理：教師 歷史：教師 公民：教師 審題： | 命題範圍： 地理： 歷史： 公民： | 班級：_____年_____班 座號：_____ 姓名：_____ _____ | 分數： | 家長簽名： | 科目代號： <b style="font-size: 2em;">05 |
|---|----------------------------|--|-----|-------|--|


● 作答說明：

1. 本試卷共 2 張 4 頁，請同學檢查是否有誤。
2. 試卷中若印刷不清，請立即向監考老師反應，更換試卷。
3. 考試過程，嚴禁交談，請遵守考場規則。

一、單選題：(每題 2 分，共 100 分)


地理科(1~17 題)

1. 臺灣孤立的島嶼環境加上多樣的氣候條件，逐漸演化出各種臺灣的特有生物。請問：下列哪一個吉祥物即是使用臺灣的特有生物為參考所設計而成的？



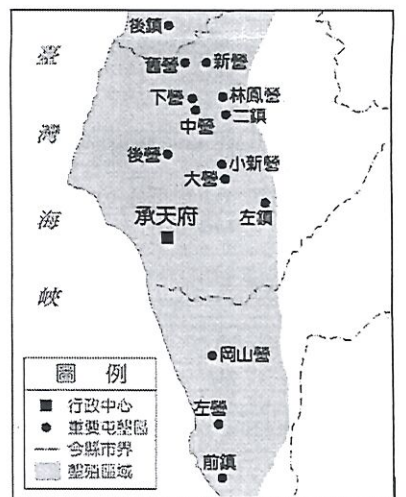
2. 海洋約占地球總表面積的 71%，共分為三大洋。請問：其中哪一個海洋是地球上面積最大的海洋？(A)大西洋 (B)太平洋 (C)印度洋 (D)喜洋洋。
3. 恆春國中的學生於老街上巧遇一名迷路的觀光客，該名觀光客想前往恆春國中觀賞紙風車劇團的演出，熱心的學生們為他指引了恆春國中的正確位置。請問：下列四位同學的指引，何者是使用「絕對位置」的表達方式？(A)學生甲：恆春國中位於南門的東北方 (B)學生乙：恆春國中位於轉運站的東方 (C)學生丙：恆春國中位於鎮公所的南方 (D)學生丁：恆春國中位於屏東縣恆春鎮文化路 79 號。
4. 臺灣一共有六個直轄市。請問：下列哪一些市屬於直轄市？(甲)基隆市 (乙)新北市 (丙)桃園市 (丁)新竹市 (戊)高雄市 (A)甲乙戊 (B)甲丙丁 (C)乙丙戊 (D)乙丁戊。
5. 芝芝老師計畫將在來年的暑假期間前往位於南半球的紐西蘭旅遊。請問：芝芝老師應攜帶哪一些衣物才適合紐西蘭當時的氣候？(甲)毛衣 (乙)圍巾 (丙)短裙 (丁)比基尼 (A)甲乙 (B)甲丙 (C)乙丁 (D)丙丁。
6. 芝芝老師於寒假期間前往菲律賓旅遊，飛機起飛後不久即離開臺灣本島上空，並飛行於一片廣大的海洋上方。請問：從臺灣前往菲律賓，飛機飛越的海洋應為哪一個海洋？(A)臺灣海峽 (B)巴士海峽 (C)太平洋 (D)東海。
7. 海岸依照構成物質不同，可分為沙岸與岩岸。請問：下列哪一種地形常見於沙岸？(A)沙灘 (B)灣澳 (C)岬角 (D)夾腳拖。
8. 臺灣的地形山多平原少，且多火山、地震，是因為臺灣位於板塊交界帶上。請問：臺灣是位於歐亞板塊與哪一個板塊的交界帶？(A)太平洋板塊 (B)巴士海峽板塊 (C)菲律賓海板塊 (D)臺灣海峽板塊。
9. 臺灣與中國、日本因某座島嶼的主權問題始終爭議不斷，該島面積雖僅約 7 平方公里，但卻擁有與臺灣島差不多大的經濟海域。請問：這座島嶼為何？(A)金門列嶼 (B)馬祖列嶼 (C)釣蝦臺列嶼 (D)釣魚臺列嶼。
10. 永續利用是指對土地的利用不但可滿足當代人的需求，又不損害後代子孫的利益。請問：下列哪一項行為有做到永續利用？(A)將山地開闢成露營區，增加土地的使用 (B)將房子興建在河道上，創造最美的景觀 (C)將垃圾做好分類回收，避免資源的浪費 (D)將營養午餐通通倒掉，造成糧食的浪費。
11. 塑造地表地形的力量包含內營力以及外營力。請問：下列哪一種作用力是屬於內營力？(A)火山活動 (B)風力堆積 (C)河水搬運 (D)海浪侵蝕。
12. 請問：下列哪一座國家公園，是臺灣第一座國家公園，主要特色為珊瑚礁海岸景觀？(A)玉山國家公園 (B)墾丁國家公園 (C)太魯閣國家公園 (D)陽明山國家公園。
13. 氣溫是指大氣的溫度。請問：臺灣地區通常以何者作為氣溫的單位？(A)民氏 (B)華氏 (C)攝氏 (D)龍山氏。

14. 右圖是屏東林邊地區老舊民宅的照片。請問：該棟民宅正面臨何種災害？ (A) 淹水 (B) 乾旱 (C) 土石流 (D) 地層下陷。
15. 承上題，造成此種現象的原因可能為何？ (A) 氣溫驟降 (B) 超抽地下水 (C) 山區過度開發 (D) 連日的強降雨。
16. 〈甲〉降水、〈乙〉逕流、〈丙〉凝結、〈丁〉蒸發或蒸散為水循環的四個步驟。請問：下列何者是水循環的正確順序？ (A) 甲→乙→丙→丁 (B) 甲→丙→乙→丁 (C) 甲→丁→丙→乙 (D) 丁→丙→甲→乙。
17. 入冬後，恆春半島地區吹起了強勁的落山風。請問：下列關於落山風的敘述，何者正確？ (A) 恆春半島迎東北季風，故落山風強勁 (B) 落山風乾燥且強勁，有利於洋蔥生長 (C) 落山風為恆春半島地區帶來充足降雨 (D) 落山風的成因與颱風的成因大致相同。



歷史科(18~34 題)

18. 歷史學家以下列哪一種發明的有無來當作「史前時代」與「歷史時代」的劃分的依據？ (A) 文字 (B) 農業 (C) 紀年 (D) 用火。
19. 史前時代人類生活的樣貌，可通過遺留下來的器物和遺跡來判斷。學者根據何種分類的依據，將史前時代分成「石器時代」與「金屬器時代」？ (A) 貨幣的種類 (B) 食物的來源 (C) 房屋的建材 (D) 器具的材質
20. 臺灣原住民依照使用的語言結構來分析，屬於下列哪一種語族？ (A) 印歐語族 (B) 漢藏語族 (C) 南島語族 (D) 蒙古語族。
21. 清朝時期，臺灣的原住民被統治者分為「生番」和「熟番」，這種分類方法是根據下列何者？ (A) 主要居住地區的分布 (B) 是否有納稅、服勞役 (C) 移民來臺時間的早晚 (D) 經濟活動的差異。
22. 臺灣是十七世紀漢人、日本人、荷蘭人、西班牙人等在東亞地區進行貿易的重要據點，當時臺灣會扮演這種角色的原因，主要是具備了下列哪一項優越的地理條件？ (A) 人口稠密 (B) 氣候宜人 (C) 地形平坦 (D) 位置優越。
23. 下列何者「不是」新石器時代文化的特徵？ (A) 製作陶器 (B) 農業開墾 (C) 使用文字 (D) 飼養家畜。
24. 荷蘭時期，由於荷蘭人對漢人的管制非常嚴格，並徵收各式苛捐雜稅，因此經常發生反抗事件。當時以何人率領漢人於 1652 年發起的抗荷事件規模最大？ (A) 顏思齊 (B) 鄭成功 (C) 郭懷一 (D) 朱一貴。
25. 右圖顯示的地名源自鄭氏時期的某項政策，請問這些地點有何共同特色？ (A) 海盜活動處 (B) 戰爭的戰場 (C) 軍屯的地點 (D) 貿易轉運地。
26. 瑪莉亞是來自菲律賓的外籍看護，信仰虔誠的她，假日時都會到天主教堂望彌撒，並與同鄉姐妹聯絡感情。請問，她的信仰與哪一個國家有關？ (A) 美國 (B) 英國 (C) 葡萄牙 (D) 西班牙。
27. 西元 1683 年，康熙皇帝派遣哪一位將領出兵攻打台灣，於澎湖擊敗鄭克塽軍隊，結束鄭氏政權在台灣的統治？ (A) 沈有容 (B) 施琅 (C) 陳永華 (D) 沈葆楨。
28. 荷蘭時期，在臺灣的荷蘭統治當局會將刻有荷蘭聯合東印度公司標幟的藤杖，授予原住民部落中有地位的人士，這些人每年集會一次，在會中宣誓效忠荷蘭，並報告各轄區內的情形。請問：上述「有地位的人士」應是指下列何者？ (A) 長老 (B) 傳教士 (C) 巫師 (D) 漢人翻譯。
29. 荷蘭人統治臺灣時，曾經使用被稱為「新港文字」的文字系統，這種文字是以何種字母拼寫而成？ (A) 羅馬字母 (B) 荷蘭字母 (C) 日本文字 (D) 英文字母。
30. 《渡臺悲歌》中提到：「勸君切莫過臺灣，臺灣恰似鬼門關，千個人去無人轉，知生知死都是難。」雖然生活險惡，生死未知，但哪兩省居民仍勇於前往臺灣發展？ (A) 山東、山西 (B) 江蘇、浙江 (C) 福建、廣東 (D) 貴州、雲南。
31. 臺灣開港之後以哪三者為最主要的出口品，因而有「台灣三寶」之稱？ (A) 茶、鹿皮、鴉片 (B) 鴉片、紡織品、稻米 (C) 稻米、蔗糖、鹿脯 (D) 茶、蔗糖、樟腦。
32. 清朝統治前期的台灣移民除了祭祀原鄉的神祇外，也會與其他祖籍的民眾信仰共同的對象，下列哪位神祇的崇拜「不是」共同的信仰？ (A) 媽祖 (B) 耶穌 (C) 王爺 (D) 土地公。
33. 清帝國統治初期，隨著漢人貿易的需要及聚落的拓展，臺灣興起許多新港口，其聚落及街市相繼形成，遂有「一府二鹿三艋舺」的稱呼。請問：「一府」指的是今日哪一個城市？ (A) 淡水 (B) 基隆 (C) 萬華 (D) 台南。
34. 清領前期，商人為了維護利益，避免惡性競爭，成立哪一種組織？ (A) 洋行 (B) 郊 (C) 會館 (D) 墾號。



公民科(35~50題)

35. 美秀今年 70 歲，她和弟弟命運截然不同，出嫁時父親告訴她不能和弟弟一樣列名族譜，母親說她出嫁後就不能回去祭祖。父親過世後弟弟要求她主動放棄爸爸的遺產繼承。請問根據上述內容判斷，美秀的家人最可能欠缺何種觀念？ (A)尊重少數 (B)性別平等 (C)關懷弱勢 (D)敬老尊賢。
36. 長期關注人權的湯森路透基金會，公布「全球對女性最危險國家」調查結果，印度因為女性遭受性暴力及人口販賣的風險極高，對人身安全及生存權是一大威脅，排名第一。請問上文顯示印度在下列何者最需要改善？ (A)政府權力的擴張 (B)人民的義務落實 (C)人性尊嚴的維護 (D)言論自由的保障。
37. 下列哪些行為**不是**尊重人權的行為？ (A)火車上設置婦女夜間車廂 (B)網路肉搜公審嫌犯家屬 (C)保障外籍移工的工作待遇 (D)滿足身障者的生活需求。
38. 1955 年，一位黑人女子坐上一輛公車，當時若白人在公車上沒位子坐，黑人必須起身讓座，但該名黑人女子拒絕讓座，竟遭到逮捕。這起事件激起當地黑人的憤怒，他們抗議公車上施行的種族歧視政策，發起抵制搭乘的運動。請問此活動是希望達成何種目的？ (A)促進性別平等 (B)落實民主政治 (C)提升教育水準 (D)維護人性尊嚴。
39. 千千發現學校的許多設置有依性別區分不同顏色，像女生廁所是粉紅色，男生廁所是藍色；女生運動服是紅色，男生運動服是藍色。這樣的顏色區別，顯示下列何種現象？ (A)性別刻板印象 (B)性別歧視 (C)性別偏見 (D)性別友善。
40. 新聞報導：「今年的國軍空降實兵操演，其中有 8 位女性軍官克服先天的性別差異，首度實戰亮相，可圈可點。」請問上述新聞所說的「先天的性別差異」指的是下列何者？ (A)生理性別 (B)心理性別 (C)社會性別 (D)物理性別。
41. 如右圖，小丸子和爸爸、媽媽、爺爺、奶奶、姐姐住在一起，請問小丸子的家庭型態應為下列何者？ (A)小家庭 (B)大家庭 (C)三代家庭 (D)隔代教養家庭。
42. 關於家庭暴力事件的描述，下列何者正確？ (A)只有丈夫毆打老婆才算家暴 (B)家暴事件屬於家務事，外人不要介入 (C)家暴事件屬於家務事，外人不要介入 (D)長期對家人精神上的傷害，也屬於家庭暴力。
43. 屏東縣政府為了改善少子化問題，提出每生一胎補助 2 萬元的政策。請問此政策最主要是鼓勵家庭發揮下列哪一項功能？ (A)生育功能 (B)教育功能 (C)經濟功能 (D)保護與照顧功能。
44. 阿光和小柔兩人結婚後，因為兩人都有工作，覺得下班後還要照顧孩子太辛苦，所以決定不生小孩。請問上述屬於何種家庭型態？ (A)折衷家庭 (B)頂客家庭 (C)單親家庭 (D)兩地家庭。
45. 台灣目前已邁入高齡社會，為了解決老人照顧的問題，政府應該採取何種方式最恰當？ (A)提供長期照顧服務 (B)強制將老人送至安養院 (C)立法規定子女與父母同住 (D)減少老人津貼。
46. 下列有關臺灣原住民族的敘述，何者正確？ (A)目前臺灣原住民族總共有九族 (B)原住民族的文化大致上相同 (C)部落要經過原住民族委員會核定 (D)原住民都喜歡吃檳榔喝酒。
47. 下列敘述，何者屬於「網路霸凌」的行為？ (A)封鎖不認識的網路帳號 (B)不借遊戲帳號給同學玩 (C)發送聊天室邀請給同學 (D)公開分享並討論同學不雅照片。
48. 開班會，大家正在討論班服的顏色時，大熊和阿虎突然為了樣式的選擇打了起來，全班亂成一團。此時出席人可以提出下列哪一問題請求主席糾正？ (A)權宜問題 (B)秩序問題 (C)安全問題 (D)規則問題。
49. 阿美族歌手張惠妹，曾以其卑南族語名稱阿密特，為她的專輯命名。請問此舉表達下列何種精神？ (A)認同自我原住民身分 (B)推動部落經濟發展 (C)傳承傳統慶典儀式 (D)積極參與部落會議。
50. 根據右圖的對話內容可知，原住民族這麼做的用意最可能是下列何者？ (A)維護動物權利 (B)遵守法律規定 (C)重視生態永續 (D)磨練授獵技巧。



屏東縣立恆春國中 112 學年度第 1 學期 7 年級社會科補考題庫 答案卷

| | | | | |
|---|----------------------------|---|-----|-------|
| 命題教師： 地理：○○○教師 歷史：○○○教師 公民：○○○教師 | 命題範圍： 地理： 歷史： 公民： | 班級：_____年_____班 座號：_____ 姓名：_____ | 分數： | 家長簽名： |
|---|----------------------------|---|-----|-------|

一、單選題：(每題 2 分，共 50 分)

| | | | | | | | | | |
|---|---|---|---|---|---|---|---|---|----|
| 1 | 2 | 3 | 4 | 5 | 6 | 7 | 8 | 9 | 10 |
| A | B | D | C | A | B | A | C | D | C |

| | | | | | | | | | |
|----|----|----|----|----|----|----|----|----|----|
| 11 | 12 | 13 | 14 | 15 | 16 | 17 | 18 | 19 | 20 |
| A | B | C | D | B | D | B | A | D | C |

| | | | | | | | | | |
|----|----|----|----|----|----|----|----|----|----|
| 21 | 22 | 23 | 24 | 25 | 26 | 27 | 28 | 29 | 30 |
| B | D | C | C | C | D | B | A | A | C |

| | | | | | | | | | |
|----|----|----|----|----|----|----|----|----|----|
| 31 | 32 | 33 | 34 | 35 | 36 | 37 | 38 | 39 | 40 |
| D | B | D | B | B | C | B | D | A | A |

| | | | | | | | | | |
|----|----|----|----|----|----|----|----|----|----|
| 41 | 42 | 43 | 44 | 45 | 46 | 47 | 48 | 49 | 50 |
| C | D | A | B | A | C | D | A | A | C |

屏東縣立恆春國中 112 學年度第一學期補考七年級綜合領域 題庫

考試範圍：翰林版第一冊 命題教師：馬海樺 審題教師：陳姿瑜

1. 請寫出上學期你所屬的童軍小隊或是家政課分組全體成員姓名，並寫出你所屬的小隊(組)在這學期團隊合作的優點和缺點。(至少50個字)
2. 如果你是童軍小隊長，你會找班上的哪七位同學當你的小隊成員，為什麼？
3. 身為國中生已經半年了，請想一下國中與國小有什麼不一樣的地方？請寫下三點。
4. 請選擇一個你常穿的衣服風格，並簡單介紹這個風格有什麼特色？(至少15個字) <衣服風格：歐美、休閒、韓系、日系、淑女、紳士、運動...等>
5. 請寫出學校五位(教務處、學務處、總務處、輔導室、補校)主任的姓名，後面請加上「主任」兩個字。
6. 請寫出教務處七位老師的姓名，後面請加上「老師」兩個字。
7. 中華民國童軍諾言第二條為：「隨時隨地扶助他人，服務社會」請列舉出四項你目前可以做到扶助他人與服務社會的行為表現。
8. 中華民國童軍規律第七條為：「負責」，請列舉出四項你目前可以做到「負責」的行為表現。
9. 升上國中後，要讀的書變多了，對於在國中的主要科目(國文、英語、數學、自然、地理、歷史、公民)，你目前感覺哪些科目學習上最困難，最需要老師和同學的協助？為什麼？
10. 在綜合領域的課程中(童軍、家政、輔導)，你最喜歡上哪一堂課？為什麼？

年 班 座號： 姓名：

一、是非：(每個題目 4 分，共 40 分)

1. () 通常在戲劇演出中，舞臺設計所擺放的任何家具、物品擺設或布景，都是營造劇場氣氛，增添戲劇視覺效果、演出張力的作用。
《答案》○
2. () 國家戲劇院是一個「劇場」，但是臺北市政府前的廣場就不能作為劇場。
《答案》×
3. () 潘德羅手鼓通稱鈴鼓，是一種帶有響片的圓形手鼓。
《答案》○
4. () 番紅花是著名的香料，花蕊能萃取出飽和而明亮的藍綠色。
《答案》×
詳解：番紅花是著名的香料，花蕊能萃取出飽和而明亮的橙黃色。
5. () 繪畫時，影子的形狀和範圍，約略等於物體的上方平面。
《答案》○
6. () 吉他按弦的位置在指板上。
《答案》○
7. () 在生活周遭所看見的小狗、人、建築、街道等實體，可利用透明板輔助描繪景物。
《答案》○
8. () 校園民歌的主題也包括了文學傳唱。
《答案》○
9. () 到展演場所欣賞作品時，可以穿著拖鞋，攜帶爆米花、可樂進場。
《答案》×
10. () 舞者若全部面向正前方，與舞者各自面對不同方向的畫面沒有差異。
《答案》×

二、選擇：(每個題目 4 分，共 60 分)

11. () 展覽中的「導覽」不包含什麼內容？ (A) 專業人員的引導講解 (B) 作品旁的標示說明 (C) 視聽媒體播放的介紹 (D) 紀念商品。
《答案》D
12. () 小強為了詮釋一個角色，做了一份人物觀察紀錄，紀錄中的觀察對象代號是小不點，喜歡玩溜滑梯，並且總是含著一根棒棒糖在嘴巴裡。請問：小強最有可能是在哪裡觀察到這個對象？ (A) 博物館 (B) 辦公室 (C) 公寓 (D) 公園。
《答案》D
13. () 住在屏東的阿猴想要參與南部的藝文盛事，以下哪一個展演場所是他比較不會去的？ (A) 華山藝文特區 (B) 屏東演藝廳 (C) 衛武營藝術文化中心 (D) 大東文化藝術中心。
《答案》A

14. () 下列哪一個表演團體融入舞蹈、武術，藉由震撼的鼓聲中凸顯寧靜，風格十分獨特？ (A) 金枝演社 (B) 優人神鼓 (C) 太陽馬戲團 (D) 甘蒂尼雜技團。
《答案》B
15. () 將觀眾席設於舞臺正前方，讓觀眾從舞臺正面欣賞，臺下觀眾與臺上有一定的距離，是何種舞臺型式？ (A) 三面式舞臺 (B) 中心式舞臺 (C) 黑盒子劇場 (D) 鏡框式舞臺。
《答案》D
詳解：(D) 鏡框式舞臺的觀眾席設於舞臺正前方，觀眾從舞臺正面欣賞，臺下觀眾與臺上有一定的距離。
16. () 色彩經常是下列哪一種感官的第一感受？ (A) 視覺 (B) 嗅覺 (C) 聽覺 (D) 味覺。
《答案》A
17. () 負責藝術專題展演活動之構思、組織、管理等，為下列何者的工作內容？ (A) 舞者 (B) 策展人 (C) 導覽員 (D) 藝術評論家。
《答案》B
18. () 屬於觀光局「國際光點計畫」的展演場所，是下列哪一個？ (A) 桃園展演中心 (B) 鐵花村音樂聚落 (C) 屏東演藝廳 (D) 苗北藝文中心。
《答案》B
19. () 試著分別使用八拍、四拍及一拍的節奏完成從蹲下到站直的動作，此為下列何者的改變？ (A) 速度 (B) 時間性 (C) 節奏性 (D) 動力。
《答案》A
20. () 海浪所表現的美感屬於下列何者？ (A) 調和之美 (B) 對比之美 (C) 律動之美 (D) 比例之美。
《答案》C
21. () 暖色調的燈光會使觀眾產生什麼感覺？ (A) 悲傷 (B) 寒冷 (C) 溫暖 (D) 沮喪。
《答案》C
22. () 學校的禮堂、演藝廳，大多為下列哪一種舞臺？ (A) 鏡框式舞臺 (B) 中心式舞臺 (C) 三面式舞臺 (D) 黑盒子劇場。
《答案》A
23. () 獨角仙的形態與圖案所表現的美感屬於下列何者？ (A) 律動之美 (B) 對比之美 (C) 反覆之美 (D) 線對稱均衡之美。
《答案》D
24. () 不同戲劇類型，需要的劇場型式也不同。目前在世界各地所見的舞臺，仍以室內劇場占多數，下列何者為室內劇場的舞臺形式？ (A) 三面式舞臺 (B) 鏡框式舞臺 (C) 黑盒子劇場 (D) 以上皆是。
《答案》D
25. () 〈美麗島〉一曲是下列哪一位女詩人的詩作改編而成？ (A) 席慕蓉 (B) 林海音 (C) 陳秀喜 (D) 張曉風。
《答案》C

恆春國中 112 學年度第一學期七年級 健康與體育科 補考題庫

一、選擇：(每題分，共6分)

- (A) 騎乘自行車時，手部動作係將雙手穩固握緊車把，同時將下列何者輕扣煞車桿？ (A)食指及中指 (B)中指與無名指 (C)大拇指與食指 (D)小拇指與大拇指
- (B) 關於潔牙的敘述，下列何者錯誤？ (A)潔牙順序應先使用牙線，再刷牙 (B)為了有效清潔牙菌斑，建議使用較硬毛的牙刷 (C)除了睡前及起床後，「餐後」也是潔牙的關鍵時刻 (D)挑選含氟量高於 1,000ppm 的牙膏才能有效預防齲齒。
- (B) 人類所需的營養素分為熱量營養素和非熱量營養素，下列何者屬於熱量營養素？ (A)水 (B)蛋白質 (C)維生素 (D)礦物質。
- (C) 終點前的壓線是以身體的哪個部位判定？ (A)頭 (B)手 (C)軀幹 (D)腳
- (D) 下列何者是田徑比賽中唯一的團體項目？ (A)起跑 (B)加速跑 (C)途中跑 (D)接力跑
- (C) 國中階段的你，參加社區巡守隊進行社區清潔工作，屬於何種健康表現？ (A)生理 (B)心理 (C)社會 (D)靈性。
- (C) 羽毛球規則中，擊球高度應低於幾公分？ (A)105 公分 (B)110 公分 (C)115 公分 (D)120 公分
- (A) 小美因為感冒感覺喉嚨有點腫痛，人體中哪一種器官系統負責身體防禦與免疫的功能？ (A)淋巴系統 (B)生殖系統 (C)泌尿系統 (D)內分泌系統。
- (A) 當發現水中有人溺水，這時應該要做以下哪項動作？ (A)大聲呼救 (B)裝作不知道 (C)自己下水救人 (D)站在岸邊不知所措
- (B) 當在住家發生火災時，下列哪一種為正確的處理方式？ (A)躲進浴室中，使用足夠的水源抵抗火勢 (B)在濃煙中移動時，採取低姿勢沿牆面逃生 (C)無論火勢狀況，都應該迅速逃至室外空地以提高生存機率 (D)忘記攜帶房地產、存摺等財力證明文件時，應把握時間立刻回到火場中搶救。
- (D) 下列何者是水母漂動作要點？ (A)頭部保持在水面上 (B)頭部後仰才能漂浮 (C)雙手向兩旁張開呈大字狀 (D)換氣時雙腳踢水，雙手下壓
- (C) 排球滾翻救球技術動作，是為下列何種動作？ (A)前滾翻 (B)單肩後滾翻 (C)側滾翻 (D)分腿跳
- (A) 根據道路交通管理處罰條例規定：若行人於交通頻繁之道路任意奔跑、追逐、嬉遊，足以阻礙交通，將處新臺幣三百元罰鍰。請問，此規定屬於哪項提升交通安全的共通性原則？ (A)利他的用路觀 (B)防衛兼備的安全用路行為 (C)你看得見我，我看得見你 (D)保有安全空間，不做沒把握的事。
- (D) 為了讓自己更安全而穩定的完成每個動作，下列何者是為動作結束落地瞬間的動作要領？ (A)雙腳膝蓋與足尖同方向 (B)屈膝緩衝 (C)目視正前方 (D)以上皆是
- (C) 以下關於常見眼瞶疾病的描述，何者錯誤？ (A)視網膜剝離最常發生在高度近視患者身上 (B)黃斑部病變是由於視網膜退化，造成影像的變形 (C)散光是由於虹膜表面不規則，光線無法聚焦，導致影像模糊不清 (D)乾眼症是因為淚液分泌量不足等問題，使眼珠無法維持適量溼潤所致。
- (C) 男性生殖器中的睪丸與女性的何種生殖器官功能相仿？ (A)子宮 (B)陰道 (C)卵巢 (D)輸卵管。
- (B) 健智的牙齒最近對溫度、酸、甜感到非常敏感，請問健智的牙齒可能被齲蝕至何處？ (A)牙根 (B)象牙質 (C)牙髓腔 (D)琺瑯質。
- (D) 下列關於女性生殖系統的敘述，何者錯誤？ (A)輸卵管屬於內生殖器 (B)子宮頸是連結子宮與陰道的通道 (C)卵巢左右各一，每隔約二十八天排出一個卵子 (D)精子和卵子結合後，會在輸卵管著床發育成胎兒。
- (D) 社會中的每個人都互為什麼關係，必須互利、互助和互愛，才能建立良好的群己關係？ (A)生活共同體 (B)群聚共同體 (C)社會共同體 (D)生命共同體。
- (A) 下列何者為生長發育較快速的階段？ (A)青春期 (B)成年期 (C)壯年期 (D)老年期。

二、是非：(每題分，共分) A是對 B是錯

1. (B) 如果在溪邊或河邊沒有看到設立禁止游泳的標誌，就可以下水游泳。
2. (B) 運動場地的維護是工友的責任，我只負責打球就好。
3. (A) 運球時要降低身體的重心，膝關節屈曲，才能使運球速度加快。
4. (A) 校園中最容易發生事故傷害的場所分別是運動場、教室及走廊，在此活動時應特別當心。
5. (B) 右手持拍者，正手握拍用於回擊身體左側來球，反手握拍用於回擊身體右側來球。
6. (B) 自行車不同於以油電系統裝置的汽、機車，因此不受《道路交通安全規則》的規範。
7. (B) 運動為健康的祕訣，只要活動身體就一定能擁有健康，無須在運動前進行評估。
8. (A) 透過消防署公告之簡易疏散避難地圖，可以搜尋社區中的避難收容處所。
9. (A) 以全人健康的觀點，健康並非只是沒有生病，而是生理、心理、社會完全安適的狀態。
10. (A) 根據教育部統計處調查，臺灣國中生最常見的健康問題為「視力不良」及「齲齒」。
11. (A) 與鄰居建立良好互動關係，建議家暴防範系統屬於維護社區安全的一環。
12. (A) 啦啦舞以身體的展現為主，通常以芭蕾舞、現代舞及爵士舞為基礎。
13. (A) 健康體適能檢測項目包括身體組成、柔軟度、肌力、肌耐力及心肺耐力，若當天進行心肺耐力檢測，則必須安排在所有檢測項目流程之後，以避免造成各項目檢測間的干擾。
14. (A) 由於骨質流失與老化，使高齡者跌倒後有較高的骨折風險，因此預防高齡者跌倒極為重要。
15. (B) 當火災發生時，應盡力搶救所有的財物，避免損失慘重。

112 學年_上學期_國中資訊科技測驗_七年級 命題教師：蘇瑞揚

一、是非題：(每題10分，共50分)

- (○) 1. 設計出具現代電腦運作概念，能自動計算且具有輸入、處理、儲存等功能的分析機，因而被尊稱為電腦之父的人是馮紐曼。
- (○) 2. 印表機只能做為輸出設備使用，無法做為輸入設備使用。
- (×) 3. 運算思維不適合解決日常生活遇到的問題。
- (×) 4. 在網路上沒人知道自己是誰，故可以盡情在網路上謾罵他人來抒發情緒。
- (○) 5. 「STEAM教育」是科學(Science)、科技(Technology)、工程(Engineering)、藝術(Arts)及數學(Mathematics)跨域教育。

二、選擇題：(每題分，共50分)

- (D) 1. 訓練飛行員可以運用何種電腦科技來避免人員與飛機的實際損失？
(A) 電腦輔助設計(CAD) (B) 電腦輔助製造(CAM)
(C) 無線射頻辨識(RFID) (D) 虛擬實境(VR)

答案：D

- (D) 2. 人工智慧(AI)是哪一代電腦的特色？
(A) 第二代電腦 (B) 第三代電腦
(C) 第四代電腦 (D) 第五代電腦

答案：D

- (C) 3. 下列哪一項是電腦輸入設備？
(A) 印表機 (B) 顯示器(螢幕)
(C) 手寫板 (D) 喇叭

答案：C

- (A) 4. 設計程式時，為表達演算法所代表的指令執行過程，可以使用一個圖形表示法，稱為什麼？
(A) 流程圖 (B) 心智圖
(C) 組織圖 (D) 甘特圖

答案：A

- (C) 5. 阿祥喜歡韓劇的影集，在自己網站上放相關的影片供人下載，這樣的行為是否違法？
(A) 違法，觸犯刑法不當得利罪 (B) 不違法，相關的法令已廢除
(C) 違法，觸犯著作權法 (D) 不違法，因為沒有用來營利

答案：C

() 6. 電腦的作業系統是指：

- A. Word
B. Excel
C. Windows
D. PowerPoint

答案：C

() 7. 下列哪個不是常見的瀏覽器？

- A. Chrome
B. Firefox
C. Word
D. Safari

答案：C

() 8. 電腦的儲存裝置通常包括：

- A. 螢幕
B. 鍵盤
C. 硬碟
D. 音箱

答案：C

() 9. 電腦的輸出裝置是指：

- A. 螢幕
B. 鍵盤
C. 麥克風
D. 電源供應器

答案：A

() 10. 電腦的主要元件是指：

- A. 螢幕
B. 鍵盤
C. CPU

D. 音箱

答案：C

()11. 下列哪個不是常見的即時通訊軟體？

A. Line

B. Facebook

C. YouTube

D. WhatsApp

答案：C

()12. 電腦的網路連線方式包括：

A. Wi-Fi

B. 藍牙

C. USB

D. 網路線

答案：A

()13. 下列哪個不是雲端儲存服務？

A. Google Drive

B. Dropbox

C. Microsoft Word

D. iCloud

答案：C

()14. 電腦的圖形介面通常包括：

A. DOS

B. Windows

C. Linux

D. macOS

答案：B

()15. 電腦的網路協定通常包括：

A. HTTP

B. FTP

C. TCP/IP

D. SMTP

答案：C

()16. 電腦的輸入裝置是指：

A. 螢幕

B. 鍵盤

C. 印表機

D. 音箱

答案：B

()17. 電腦的輸入格式通常包括：

A. 文字

B. 圖片

C. 影片

D. 音樂

答案：A

()18. 電腦的輸入裝置是指：

A. 螢幕

B. 鍵盤

C. 印表機

D. 音箱

答案：B

()19. 檔案的副檔名通常用來表示：

A. 檔案的大小

B. 檔案的類型

C. 檔案的建立時間

D. 檔案的作者

答案：B

()20. 下列哪個不是常見的瀏覽器？

A. Chrome

- B. Firefox
- C. Word
- D. Safari

答案：C

()21 電腦的儲存裝置通常包括：

- A. 螢幕
- B. 鍵盤
- C. 硬碟
- D. 音箱

答案：C

()22 電腦的輸出裝置是指：

- A. 螢幕
- B. 鍵盤
- C. 麥克風
- D. 電源供應器

答案：A

()23. 電腦的主要元件是指：

- A. 螢幕
- B. 鍵盤
- C. CPU
- D. 音箱

答案：C

()24. 下列哪個不是常見的即時通訊軟體？

- A. Line
- B. Facebook
- C. YouTube
- D. WhatsApp

答案：C

()25. 電腦的網路連線方式包括：

- A. Wi-Fi
- B. 藍牙
- C. USB
- D. 網路線

答案：A

()26. 下列哪個不是雲端儲存服務？

- A. Google Drive
- B. Dropbox
- C. Microsoft Word
- D. iCloud

答案：C

()27. 電腦的作業系統是指：

- A. Word
- B. Excel
- C. Windows
- D. PowerPoint

答案：C

()28. 下列哪個不是電腦病毒的種類？

- A. 蠕蟲
- B. 防火牆
- C. 惡意軟體
- D. 特洛伊木馬

答案：B

()29. 下列哪個不是網路上的社交媒體？

- A. Facebook
- B. Instagram
- C. YouTube
- D. Twitter

答案：C

