

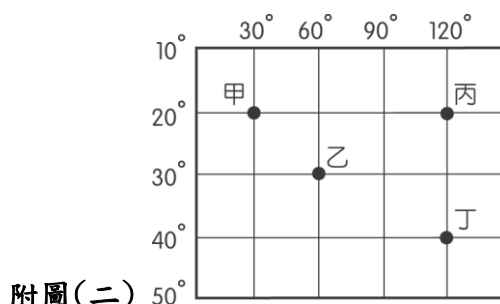
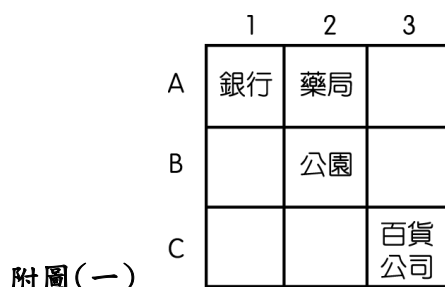
屏東縣立恆春國中 110 學年度第 1 學期 7 年級社會科 補考 題庫

命題：李佳穎教師 審題：林俊平等教師	命題範圍： 地理：第 1~6 課 歷史：第 1~6 課 公民：第 1~6 課	班級：七年_____班 座號：_____ 姓名：_____	分數：	家長簽名：	科目代號： 05
-----------------------	---	-------------------------------------	-----	-------	--------------------

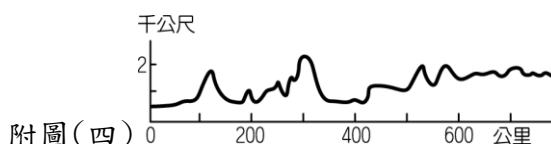
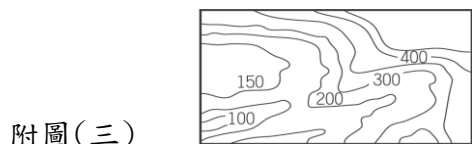
一、單選題：

地理科(1~17 題)

1. 附圖(一)的網格座標。請問：位於(2, A)的是哪一個地點？
(A)銀行 (B)公園 (C)百貨公司 (D)藥局。



2. 「恆春是臺灣位置最南的城鎮。」，這種位置的敘述方式稱為下列何者？
(A)相對位置 (B)絕對位置 (C)海陸位置 (D)網格位置。
3. 經緯線為標示地球上地理位置的重要參考。下列何者敘述正確？
(A)所有經緯線都是平行線 (B)所有經緯線都交會於南北極 (C)所有經線長度都一樣長 (D)所有緯線長度皆一樣長。
4. 赤道是地球上重要的經緯線，下列關於赤道的敘述，何者正確？
(A)是 90° 的緯線 (B)是南北向的線 (C)同時通過南、北極 (D)將地球分成南、北兩半球。
5. 附圖(二)中有甲、乙、丙、丁四個經緯度位置不同的地點，其中緯度位置最高的是下列何者？
(A)甲 (B)乙 (C)丙 (D)丁。
6. 地表畫分為熱帶、溫帶、寒帶的主要依據為下列何者？
(A)回歸線、極圈 (B)赤道、極圈 (C)本初經線、國際換日線 (D)赤道、回歸線。
7. 改變地表形貌的力量，可分為外營力與內營力，下列何者屬於內營力？
(A)河流侵蝕 (B)火山活動 (C)海水侵蝕 (D)河流堆積。
8. 地表上受到各種作用力而形成不同高低起伏的景觀，其中高聳挺拔的山脈多是由於下列哪一種營力所造成？
(A)河川堆積 (B)風力侵蝕 (C)冰河侵蝕 (D)板塊擠壓。
9. 等高線地形圖可以呈現出多種的地形特色。從附圖(三)的等高線中，可以獲得的資料不包括下列何者？
(A)地質種類 (B)地勢起伏 (C)地表高度 (D)河谷分布。

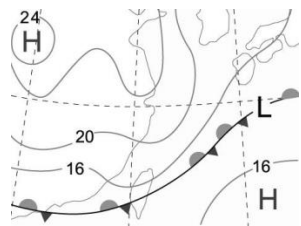


10. 附圖(四)是屬於哪一種地形的表示方式？
(A)分層設色圖 (B)立體地形圖 (C)地形剖面圖 (D)等高線地形圖。
11. 附圖(五)為臺灣山脈位置示意圖，圖中的山脈 C 對東西交通產生極大的阻隔，也是東、西部河川的分水嶺是下列何者？
(A)中央山脈 (B)雪山山脈 (C)玉山山脈 (D)阿里山山脈。
12. 玉山山脈為臺灣的第一高山，地勢高聳，晴朗時可由山頂遠眺臺灣海峽。這座山脈位於附圖(五)中的何者？
(A) A (B) B (C) C (D) D。

附圖(五)



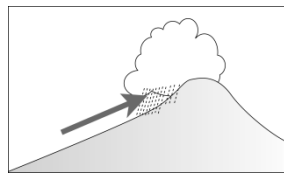
13. 針對「天氣因子」討論有(甲)：降水量的單位是 mm (乙)：氣壓單位是百帕(DNA) (丙)：空氣由低壓處向高壓處流動 (丁)：氣溫單位是°C或°F。以上敘述中，正確的是何者？
(A)甲 (B)乙 (C)丙 (D)丁。
14. 附圖(六)為氣象播報的常用的圖，名稱為下列何者？
(A)衛星雲圖 (B)地面天氣圖 (C)氣候圖 (D)等溫線地面圖。



附圖(六)



附圖(七)



附圖(八)

15. 風向是指風的來向。附圖(七)的風向為何？
 (A)東北風 (B)西北風 (C)西南風 (D)東南風。
16. 臺灣的地勢起伏大，經常形成如附圖(八)中的何種降水類型？
 (A)對流雨 (B)鋒面雨 (C)地形雨 (D)颱風雨。
17. 臺灣冬季具有「北部氣溫較低，南部較溫暖」的特徵，形成此種特性主要受下列哪一因素的影響？
 (A)地形 (B)緯度 (C)季風 (D)經度。

歷史科(18~34 題)

18. 考古學家將石器時代分為舊石器和新石器，主要的依據為何？
 (A)石器發現的先後 (B)石器形狀的大小 (C)石器製作的方式 (D)石器數量的多寡。
19. 語言學家依照原住民各族的語言語音、詞彙、語法來分析，而將他們認定為使用哪個語系的語族？
 (A)漢藏語系 (B)印歐語系 (C)南島語系 (D)亞非語系。
20. 關於臺灣原住民名稱的演變，下列何者正確？
 (A)清帝國時期就開始被稱為平埔族和高山族 (B)日治時期被稱為熟番、生番 (C)現在所稱的原住民，不分高山族、平埔族，共十六族 (D)民國七十年代開始採用的「原住民」一詞，包含了平埔族和高山族。
21. 最近公視剛播映完畢的台灣歷史大戲《斯卡羅》，改編自《魁儡花》一書，描述 1867 年發生於恆春半島的羅妹號事件，引發多方勢力的矛盾與衝突。劇中卓杞篤身為十八番社的大股頭，原本想藉由舉行五年祭來感謝祖靈、眾神的保佑，並將大股頭傳給朱雷。原住民各族常會在固定時間進行類似的「歲時祭儀」，主要與他們的經濟生活息息相關，請由平常所知及曾學習過的知識，選出正確的配對組合？
 (A)賽夏族→矮靈祭 (B)阿美族→飛魚祭 (C)達悟族→豐年祭 (D)布農族→夜祭。
22. 國片《賽德克·巴萊》，主要為描述日治時期由莫那魯道率領原住民反抗政府產生的「霧社事件」。下集名稱『彩虹橋』，賽德克族（由泰雅族分出來）相信，死後祖先會在彩虹橋那端迎接他們，當中需要靠他們共同的標誌來辨識，男子以出草展現勇氣、女子以善於織布來獲得代表「成年」的榮譽象徵。請問：此一特有文化為何？
 (A)祀壺 (B)紋面 (C)拔牙 (D)八部合音。
23. 下列關於漢人到臺灣、澎湖開發歷史的敘述，何者正確？
 (A)十二世紀時，已有漢人移居臺灣 (B)十四世紀以後，元朝為防範倭寇騷擾，實施海禁政策，海商改以走私貿易在東亞活動 (C)明代首先在澎湖設官治理 (D)十六世紀後期，因明朝派兵進駐澎湖，以顏思齊、鄭芝龍為代表的海商逐漸轉移到臺灣活動。
24. 荷蘭人與西班牙人先後來到台灣，主要目的是為了發展在東亞的貿易。請問：他們一開始與原住民的互動方式，以下敘述何者有誤？
 (A)先是以武力征服 (B)放任各社自由發展 (C)與各社結盟，壓制敵對勢力 (D)利用原住民鎮壓漢人反抗。
25. 荷蘭人統治台灣南部期間，發生了麻豆社事件，請問：當時的處理情形及之後的影響，以下敘述何者正確？
 (A)聯合盟友新港社攻擊 (B)自己派兵攻打 (C)利用漢人協助鎮壓 (D)沒有成功，導致影響後續在南部地區的統治權威。
26. 請問郭懷一事件，其發生原因、時間、處理情形，及結果，以下敘述何者正確？
 (A)起因為西班牙人在利用漢人開墾時，管制過於嚴苛 (B)發生在 1662 年 (C)在過程中完全沒有原住民參與 (D)結果漢人的反抗，以失敗收場。
27. 荷蘭人統治台灣南部期間，請問其治理方式，以下敘述何者有誤？
 (A)透過原住民部落選出的長老進行間接統治 (B)部落長老每年必須參加地方會議 (C)部落長老可自行決定部落事務，完全不用聽從荷蘭人命令 (D)部落長老的政治 權力移轉與繼承須經由荷蘭人認可。
28. 關於新港文書，以下敘述何者正確？
 (A)荷蘭統治期間，傳教士為了傳教方便，用羅馬字母拼寫西拉雅語而成 (B)經過荷蘭人的傳教，部分原住民逐漸接受天主教信仰 (C)這些歷史文獻被發現的時間是在清朝統治期間 (D)直到日治時期，南部的西拉雅族仍以新港文與漢人簽訂土地契約。
29. 關於西班牙統治台灣期間，以下敘述何者有誤？
 (A)以武力降服雞籠、淡水等台灣北部的原住民部落 (B)在當地傳播基督教 (C)由於缺乏政治與軍事的支援，無論信教人數或傳教成果皆遠不如荷蘭人 (D)被荷蘭人驅逐前，都未能確立其統治地位。
30. 清朝開港通商前移民來臺的漢人，其謀生方式以務農營生，請問土地取得方式以下敘述何者正確？

(A)無法向原住民承租番地 (B)成立墾號，向政府申請墾照，開墾無主地 (C)開墾範圍小，所以通常是墾戶單獨出資即可 (D)雖然清廷消極治理台灣，但漢人都奉公守法，原住民土地沒有被侵佔。

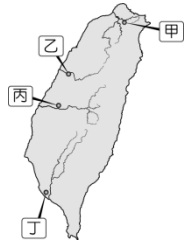
31. 清帝國統治前期，漢人陸續來臺拓墾。請問：漢人拓墾方向為何？

(A)由南而北，由西向東 (B)漫無方向，隨機拓墾 (C)由南而北，由東向西 (D)由中央山脈向東西方發展。

32. 清帝國時期臺灣有一條重要水圳，是由來臺的漢人與原住民合作興建，採取「割地換水」的模式，為求雙方合作順利，這名漢人甚至娶了平埔族頭目女兒為妻。這條水圳完工後，成為清帝國以來該地區農業生產命脈。請問：建造水圳的漢人為何？

(A)郭錫瑠 (B)施世榜 (C)張達京 (D)曹謹。

33. 承上題，請問這條水圳位於圖中何處？



(A)甲 (B)乙 (C)丙 (D)丁。

34. 清帝國統治前期，臺灣有所謂「郊」的組織出現，其性質類似下列何者？

(A)政府機關 (B)宗教團體 (C)商人組織 (D)文教組織。

公民科(35~50題)

35. 部分國人喜好到美國生產，因此有業者看到商機，主打從待產到坐月子的一條龍服務，讓獨自到美國生產的婦女也能獲得妥善的照顧。有關到美國生產的國籍認定，下列敘述何者正確？

(A)在美國出生的新生兒，僅具有美國國籍 (B)到美國生產的產婦，可因此獲得美國國籍 (C)新生兒即便在美國出生，也可擁有我國國籍 (D)新生兒及產婦因為不具美國籍，形同難民。

36. 在新聞媒體上常可見到「國民」、「公民」的名詞，四名同學對我國「公民」與「國民」的異同進行討論，下列何人的觀念有誤？

(A)櫻玫：舉凡擁有我國國籍者，都是我國的公民 (B)卿得：具有公民資格者，一定也具有國民資格 (C)文哲：凡父母一方為我國國民，其子女也擁有我國國籍 (D)國余：公民是指具有參政權的國民。

37. 思聰與朋友喬平聊起近況如附圖所示，由談話內容可知，兩人的配偶都透過何種途徑來取得我國國籍？



(A)血統原則 (B)出生地原則 (C)歸化取得 (D)天生取得。

38. 依據《公民投票法》的規定，我國國民年滿幾歲，便具有公民投票權？

(A)16歲 (B)18歲 (C)20歲 (D)23歲。

39. 柏森和幾位愛心社團的好友，經常利用假日或閒暇之餘，檢視生活周遭環境無障礙空間配置的情況，並向相關單位提出建議，希望能為身心障礙者營造更為友善的環境。上述柏森等人的行為符合現代公民應具備的何項基本德性？

(A)參與公共事務 (B)遵守法律規範 (C)理性思考批判 (D)捍衛公平正義。

40. 今年新冠肺炎嚴重導致學校停課期間，因有確診個案曾由北部至恆春地區活動，引起民眾恐慌。但事後卻有個案的姓名及詳細活動時間地點等個資外流，甚至在網路上訊息分享流傳，造成該個案及其同住親友很大的困擾。雖然該個案確診是事實，但許多網友紛紛轉貼，造成居民憤恨不滿，但實際上這是違反了《嚴重特殊傳染性肺炎防治及紓困振興特別條例》的相關規定。請問：上述傳播、散布訊息的民眾是缺乏現代公民應具備的何項基本德性？

(A)參與公共事務 (B)遵守法律規範 (C)理性思考批判 (D)捍衛公平正義。

41. 關於育嬰假、家庭照顧假的規定，誰才有權利提出申請？

(A)男方 (B)女方 (C)男女都可以 (D)男女都不可以。

42. 個人出生後第一個加入的社會化團體是指何者？

(A)學校 (B)家庭 (C)社會 (D)教會。

43. 炭筆小鑫在上學的路上遇到舅舅的媽媽，請問炭筆小鑫該如何稱呼她？

(A)舅媽 (B)(外)祖母 (C)孀孀 (D)阿姨。

44. 粉筆小諺在放學的路上遇到爸爸的哥哥，請問粉筆小諺該如何稱呼他？

(A)伯父 (B)叔叔 (C)舅舅 (D)堂哥。

45. 老師對著七年級的小行說：「八年級有一個學生小倉，跟你長得好像喔！你們有XX關係嗎？」請問XX最可能是指甚麼？

(A)血親 (B)夫妻 (C)姻親 (D)不好說。

46. 以下是七年級某班學生小光和小安二人的對話。小光：「你的爸爸就是我的爸爸耶！」，小安：「對耶，而且你的媽媽也是我的媽媽耶，好巧喔！」。請問，小光和小安二人是甚麼關係？
 (A)直系血親 (B)旁系血親 (C)姻親 (D)沒有關係。
47. 對國家而言，學校教育是學習的重要途徑之一。下列敘述，何者不是學校教育所提供的功能？
 (A)透過課程與活動設計，協助個人發現自我潛能 (B)藉由團體生活，學習人際互動 (C)培養以自我為中心的能力
 (D)了解如何遵守規範，尊重彼此的權利。
48. 在校園生活中，我們享有許多權利。下列敘述，何者屬於學習權與受教育權的層面？
 (A)開班會時，尊重每位同學的發言 (B)意見不同時，不能有傷害性的言語 (C)未經他人同意，不可擅自取走他人物品
 (D)未經他人同意，不可隨意觸碰他人。
49. 學生在學校裡，不受任何形式的霸凌行為，而造成身心的傷害。請問會造成霸凌的形式有以下幾種？(甲)暴力攻擊
 (乙)言語辱罵(丙)排擠弱勢同儕(丁)性霸凌(戊)網路霸凌
 (A)一種 (B)二種 (C)五種 (D)四種。
50. 在學校若遇到性騷擾事件，被害人或其父母、檢舉人等，可向校內哪一個單位提出申訴？
 (A)教務處 (B)學務處 (C)總務處 (D)校長室。

屏東縣立恆春國中 110 學年度第 1 學期 7 年級社會科 補考題庫答案

1	2	3	4	5	6	7	8	9	10
D	A	C	D	D	A	B	D	A	C

11	12	13	14	15	16	17	18	19	20
A	B	D	B	A	C	B	C	C	C

21	22	23	24	25	26	27	28	29	30
A	B	D	B	A	D	C	A	B	B

31	32	33	34	35	36	37	38	39	40
A	C	B	C	C	A	C	B	D	B

41	42	43	44	45	46	47	48	49	50
C	B	B	A	A	B	C	A	C	B